

全体講評（政治・経済）

〔政治〕

「政治」においては、基本的には、以下の方針から問題を作成した。

- (1) 出題分野に関しては、学習指導要領に準拠して、民主政治の基本原則（政治思想家の唱えた主張など）と日本国憲法（立法権、司法権、人身（身体）の自由、憲法改正など）、国際政治（人権に関する国際的取り組み、イスラエル・ガザ紛争、国連の体制、各国の選挙など）、現代社会の諸課題（政治資金問題、衆議院議員総選挙など）について、できるだけ特定の分野に偏ることなく出題するよう努めた。
- (2) 難易度に関わることであるが、教科書を用いた学習によって基本的な知識を習得しているかという視点から出題している。とはいえ、①時事的なテーマも取り上げ、それによって、現実の社会において「政治・経済」で学習した知識を活かすことができるかを問おうとした。また、②単に知識として知っているだけでは解答できないような問いを作ることで、問題文を丁寧に読むことができているか、問題文からヒントを読み取ることができているか、与えられている情報を整理できているか、原理・原則に遡って考えることができているか、論理を活用して答えを出すことができているかを問おうとした。
- (3) 「政治」を学習するうえで前提となる近現代史および地理に関して基礎的な知識を習得できているかを疑わざるを得ないような受験生がこれまで一定数存在したことから、歴史・地理について基礎的な知識を習得できていなければ解答できないような出題も行った。

採点結果に基づいて、学習方法および受験指導に関して以下5点ほど指摘しておくこととしたい。

- (1) 国際関係に関して、昨年までと比べて問題の難易度に変化はないように出題したにもかかわらず、多くの問題において正答率はあまり芳しくなかった（2月1日実施問〔I〕、2月3日実施問〔I〕、2月5日実施問〔Ⅲ〕、2月6日実施問〔I〕など）。国際社会における政治は国内社会における政治と比べると理解するのが難しいとはいえ、国際関係の重要性はますます高まっており、苦手意識を克服してもらいたい。また、国際的な紛争などについては、資料集に載っている年表も用いて、何が原因で発生したと考えられるか、どのように解決に向かっていったかなどを調べてほしい。なお、今年度は地図上のどこにあるのかといった問題は出題しなかったが、「政治・経済」の学習といえども、国名・地名などが出てきたときには、地図上のどこにあるか確認しておくことも大切である。
- (2) 憲法や法律などの条文に関する出題の中に正答率の低いものがやや見られた（2月1日実施問〔Ⅲ〕、2月2日実施問〔I〕、2月3日実施問〔Ⅲ〕、2月5日実施問〔I〕、2月6日実施問〔Ⅲ〕、2月7日実施問〔Ⅲ〕など）。教科書などで条文が参照されているところでは、条文を繰り返し読むことを怠ってはならない。条文の文言は立法者による検討を経て選ばれたものである。憲法や法律などの条文を理解しようと思えば、その中で用いられている文言を読み飛ばすようなことをしてはならない。憲法や法律などの条文にどのようなルールが定められているかを読み取る能力を身に付けることが大切である。
- (3) 時事的な問題について正答率が低いものが見られた（2月2日実施問〔I〕、2月3日実施問〔I〕、2月6日実施問〔I〕、2月6日実施問〔I〕、2月7日実施問〔I〕など）。教科書に載っていないから解答できないというのは、言い訳にはならない。新聞などを通じて現在の社会の在り方に関心を持ち、新聞などで報道されている事柄が教科書などを通じて学ぶ基礎的な知識とどのように関連しているかを考えることをしないならば、「政治・経済」の学習は表面的なものにとどまるであろう。

また、歴史的な事実を問うものは、国外的なものはもちろん、国内的なものであっても、正

答率は総じて高くない(2月1日実施 問〔I〕、2月2日実施 問〔Ⅲ〕、2月3日実施 問〔I〕、2月5日実施 問〔Ⅲ〕、2月6日実施 問〔I〕、2月7日実施 問〔I〕など)。分野横断的に時系列の中に社会的な問題を位置付けていくという学習ができていない。資料集に載っている年表でよいので、「政治・経済」の学習において、いつの出来事なのか、その前後に何が起きていたか、その時代に他の分野・地域に何が起きていたかなども目を向けてほしい。

- (4) 入学者選抜のための試験という性格上、関西大学での教育に際して最低限必要となる知識・能力を習得できているかを確認するという観点だけでなく、受験生の中で「政治」を学ぶことで得られた知識・能力にどれだけの違いがあるかを明らかにするという観点からも問題を作成している。教科書を用いた学習で得られる知識を用いれば解答可能であり、かつ、受験生の中に差が出るように、次のような出題を行っている。①「政治」に関する基本的な知識が「正確」に習得できているかを問うもの。教科書に出てくる基本的な諸概念については、教科書・用語集などを用いて、正確に理解しておくことが必要である。②基本的な知識を用いながら論理などを活用することができるかを問うもの。解答に際しては、原理・原則に遡って考えることができなければならない。学習に際しては、自分で具体例を見つけて、抽象的なものをその具体例のなかで自分の言葉で説明できるようにすることが大切である。
- (5) 「政治」においても数値を用いて現象を理解することが必要となる場合が多い。そのため、統計から得られる数値などを用いた問題や計算問題を出題した(2月1日実施 問〔Ⅲ〕、2月2日実施 問〔I〕、2月2日実施 問〔Ⅲ〕、2月7日実施 問〔I〕など)。「ある・なし」だけを知るのではなく、「ある」という場合における大小・強弱などを意識して学習してほしい。知識の有無を単に問うのではないものとして、統計などを用いた出題は増えるであろう。資料集に載っている各種の統計などを用いて、例えば経年比較や国際比較などができる能力を身に付けてほしい。

[経済]

今年度の「経済」分野の問題は、教科書や資料集の基礎的な内容を中心としつつ、一部に応用的な問題や時事的な要素を含むなど、例年の出題傾向を踏襲したものであった。全体的な正答率は高く、受験生の多くが「経済」分野の基礎知識を身につけていることがうかがえる。特に、基本的な用語を問う問題では、非常に高い正答率が見られた。

一方で、正答率が低い傾向にあったのは、出来事の時期を問う問題や時系列的な把握を求める問題である。こうした問題に対応するためには、単なる暗記にとどまらず、出来事の流れや背景を理解しながら学習を進めることが重要である。歴史的な文脈の中で社会・経済の変化を捉えるとよい。

また、複数の情報を組み合わせて考える問題の正答率も低い傾向があった。これは、個々の知識を持っていても、それらを関連付けて考える力が十分に養われていないことを示している。学習の際には、教科書や資料集の表、グラフ、注釈などを活用し、多角的な視点から物事を捉えることが重要である。異なる分野の知識と関連付けることも、より深い理解につながる。

さらに、時事問題が一定数出題されることを考慮すると、新聞、ニュース、ウェブメディアなどを活用し、世界の最新動向に触れる習慣をつけることも有益である。社会の変化に対する関心を高め、学んだ知識を実際の社会・経済の動きと結びつけることで、より実践的な理解が深まる。

2025年度「経済」分野の出題トピックスは以下の通りである。(出題日程順、大問番号順)

2月1日実施

〔II〕金融

〔IV〕労働問題

2月2日実施

〔Ⅱ〕現代の企業

〔Ⅳ〕貿易理論

2月3日実施

〔Ⅱ〕財政

〔Ⅳ〕高度情報社会

2月5日実施

〔Ⅱ〕消費者問題

〔Ⅳ〕経済成長

2月6日実施

〔Ⅱ〕経済体制

〔Ⅳ〕南北問題

2月7日実施

〔Ⅱ〕物価の動き

〔Ⅳ〕環境問題

2025年度入学試験問題

政治・経済

注意事項

- I 試験開始の指示があるまで問題用紙を開いてはいけません。
- II 解答用紙はすべて黒鉛筆(HB)〈シャープペンシルは、HB 0.5 mm 以上の芯であれば使用可〉で記入することになっています。
(万年筆・ボールペン・サインペンなどを使用してはいけません。)
- III 解答用紙右端の出席票に印刷されている受験番号を確認してください。間違いがなければ氏名欄に署名し、切取線から切り離してください。
- IV 試験時間は60分です。
- V 問題は21ページで大問4問です。

マーク記入上の注意

1. 解答欄にマークするときは、HBの黒鉛筆で次の正しい例のように、濃く正確にぬりつぶしてください。
2. マークのしかた
 - (7) 正しい例
 - a 解答が1つの場合、例えばイと解答するときは
 (1) のように、マークしてください。
 - b 解答が2つの場合、例えばイとウと解答するときは
 (1) または (1) のように各1つずつマークしてください。
 - (6) 悪い例
 - (1) ○印でかこむ。
 - (2) 全部をぬりつぶしていない。
 - (3) レ印をつける。
 - (4) |印をつける。
 - (5) 1欄に2つ以上マークする。

このような記入をしてはいけません。

 3. 一度記入したマークを訂正する場合は、消しゴムで完全に消してから記入しなおしてください。
 (1) のように×印をしても消したことはありません。
 4. 解答用紙を折り曲げたり、破ったり、また汚したりしないでください。

〔I〕 次の文章を読んで、問(A)~問(G)に答えなさい。なお、各条約の条文の日本語訳はすべて、佐伯仁志・大村敦志・荒木尚志編集代表『ポケット六法(令和6年版)』(有斐閣、2024)によるものである。

第二次世界大戦後、人権についての国際的なルールや合意の必要性が強く唱えられるようになった。1948年には(1)が、1966年には「国際人権規約」が国際連合(以下、国連)の総会で採択された。(1)は、第1条において「すべての人間は、生れながらにして(2)であり、かつ、尊厳と権利とについて平等である。」と、人権の普遍性を明確に宣言している。その後、人権上の特別な配慮が必要な集団や特定の人権侵害を対象とする「国際的な人権条約」が次々と採択された。前者の例としては、1981年に発効した「^①女子に対するあらゆる形態の差別の撤廃に関する条約」(以下、女子差別撤廃条約)や1990年に発効した「^②児童の権利に関する条約」(以下、児童の権利条約)がある。後者の例には1969年に発効した「あらゆる形態の人種差別の撤廃に関する国際条約」(以下、人種差別撤廃条約)があげられる。

女子差別撤廃条約の第1条では、政治的、経済的、社会的、文化的、市民的その他のいかなる分野においても男女の平等が基礎であることが明記されている。つづく第2条は「締約国の差別撤廃義務」を定めており、締約国は「女子に対する差別を撤廃する政策をすべての適当な手段により、かつ、遅滞なく追求することに合意」することになっている。日本は1985年にこの条約を批准するにあたり、^③「国内法制と条約との整合性をはかる必要があった。批准から40年ほどが過ぎたが、日本における女性の地位は男性と比べて低い。たとえば世界経済フォーラムは、「経済」、「政治」、「教育」、「健康」の4分野のデータに基づき「ジェンダー・ギャップ指数」を発表している。2024年の日本の順位は118位で、G7主要国会議参加国の中で第(3)位である。なかでも、「政治」と「経済」分野で不平等が目立つ。

児童の権利条約は、児童の基本的な人権を国際的に保障するために成立した。児童は権利を尊重されるべき存在であると同時に、児童という特別な存在でもある。前文において、「極めて困難な条件下で生活している児童が世界のすべての国

に存在すること、また、このような児童が特別な配慮を必要としていることを認めている。第1条では、この条約の適用上、児童を「(4)歳未満のすべての者」と定めている。第4条では、児童が「この条約において認められる権利を実現するために、「すべての適当な立法措置、行政措置その他の措置を講ずる」義務を締約国に課している。

人種差別撤廃条約は、1963年に国連総会で採択された「あらゆる形態の人種差別の撤廃に関する宣言」を受けて成立した。この宣言の背景には、「植民地主義や奴隷制度、^④南アフリカなどで行われていた人種隔離政策、いわゆる(5)政策に対する国際的非難の高まりがある。人種差別撤廃条約の前文において、「すべての人間が法律の前に平等であり、いかなる差別に対しても、また、いかなる差別の扇動に対しても法律による平等の保護を受ける権利」を有していること、さらには国連が「植民地主義並びにこれに伴う隔離及び差別のあらゆる慣行」を非難してきたことが述べられている。第2条では締約国の基本的義務として、「あらゆる形態の人種差別を撤廃する政策及びあらゆる人種間の理解を促進する政策」を遅滞なくとることを定めている。2024年1月現在、日本はこの条約を批准している。しかし残念ながら現在でも、人種差別撤廃条約第1条の定める「人種差別」、つまり「人種、皮膚の色、世系又は民族的若しくは種族的出身に基づくあらゆる^⑤区別、排除、制限又は優先」はなくなっていない。2016年に日本では、特定の国の出身者であることまたはその子孫であることを理由に、日本社会から追い出そうとしたり危害を加えようとしたりするなどの一方的な内容の言動を取り締まるために、「本邦外出身者に対する不当な差別的言動の解消に向けた取組の推進に関する法律」、いわゆる(6)対策法が制定された。同法が審議された国会の附帯決議のとおり、「本邦外出身者」に対するものであるか否かを問わず、国籍、人種、民族等を理由として、差別意識を助長または誘発する目的で行われる排他的言動は決してあってはいけない。

問(A) 文中の(1)～(6)に入れるのに最も適当な語句を下記の語群から選び、その記号をマークしなさい。

〔語群〕

- | | | |
|--------------------|-------------|------------|
| (ア) 世界人権宣言 | (イ) アパルトヘイト | (ウ) 15 |
| (エ) ダイバーシティ | (オ) 1 | (カ) 勤勉 |
| (キ) アファーマティブ・アクション | | (ク) 6 |
| (ケ) 人間環境宣言 | (コ) テロリズム | (ク) 20 |
| (シ) 奴隷解放宣言 | (ス) ヘイトスピーチ | (セ) 18 |
| (ソ) 神聖 | (タ) 自由 | (チ) プロパガンダ |
| (ツ) 7 | | |

問(B) 下線部①に関連して、2024年時点の国際的な人権条約と日本の関わりの説明として最も適当でないものを次の(ア)～(エ)から一つ選び、その記号をマークしなさい。

- (ア) 日本は「障害者の権利に関する条約」を批准している。
- (イ) 日本は「すべての移住労働者とその家族の権利の保護に関する国際条約」を批准している。
- (ウ) 日本は「強制失踪からのすべての者の者の保護に関する国際条約」を批准している。
- (エ) 日本は「難民の地位に関する条約」を批准している。

問(C) 下線部②に関連して、日本が女子差別撤廃条約を批准するにあたり制定した法律として最も適当なものを次の(ア)～(エ)から一つ選び、その記号をマークしなさい。

- (ア) 選択的夫婦別姓を認める法律
- (イ) 雇用の分野における男女の均等な機会及び待遇を確保する法律
- (ウ) 成人年齢に達した男性と女性に平等に選挙権及び被選挙権を付与する法律
- (エ) 国会における一定の議席数を女性に割り当てる法律

問(D) 下線部③に関連して、児童の権利条約の規定に関する記述として最も適当でないものを次の(ア)～(エ)から一つ選び、その記号をマークしなさい。

- (ア) 児童の権利条約は、「締約国は、自己の意見を形成する能力のある児童がその児童に影響を及ぼすすべての事項について自由に自己の意見を表明する権利を確保する。」と定めている。
- (イ) 児童の権利条約は、「締約国は、すべての児童が生命に対する固有の権利を有することを認める。」と定めている。
- (ウ) 児童の権利条約は、「児童に関するすべての措置をとるに当たっては、公的若しくは私的な社会福祉施設、裁判所、行政当局又は立法機関のいずれによって行われるものであっても、国家の最善の利益が主として考慮されるものとする。」と定めている。
- (エ) 児童の権利条約は、「締約国は、思想、良心及び宗教の自由についての児童の権利を尊重する。」と定めている。

問(E) 下線部④に関連した国際的動向についての記述として最も適当でないものを次の(ア)～(エ)から一つ選び、その記号をマークしなさい。

- (ア) 1960年に国連総会で採択された「植民地と人民に独立を付与する宣言」においては、外国による人民の征服、支配および搾取は、基本的人権を否認するもので、国連憲章に違反し、世界平和と協力の促進にとっての障害とされている。
- (イ) ナイジェリアやセネガルといったアフリカの植民地が次々と独立を達成した1960年は、「アフリカの年」と呼ばれることがある。
- (ウ) 第二次世界大戦後に独立を果たしたアジア・アフリカ諸国は、反植民地主義の立場から地域的集団安全保障を目指し、北大西洋条約機構を設立した。
- (エ) 国連によれば、「植民地と人民に独立を付与する宣言」の採択にもかかわらず、2024年の時点でも非自治地域やまだ独立を達成していない地域が残っている。

問(F) 下線部⑤に関連して、南アフリカ共和国に関する記述として最も適当でないものを次の(ア)～(エ)から一つ選び、その記号をマークしなさい。

- (ア) 南アフリカは、2024年にブラジルで開催された金融・世界経済に関する首脳会合(いわゆる、G20)の参加国である。
- (イ) 1994年に、南アフリカで初めて全ての人種が参加できる制憲議会及び州議会選挙が実施された。
- (ウ) 1993年にノーベル平和賞を受賞したネルソン・マンデラは、南アフリカの大統領を務めたことがある。
- (エ) 2011年に南アフリカで住民投票が行われ、民族・宗教的に対立していた南部が北部から分離・独立を果たした。

問(G) 下線部⑥に関連する記述として最も適当なものを次の(ア)～(エ)から一つ選び、その記号をマークしなさい。

- (ア) アメリカ合衆国では、人種差別的撤廃を目指す公民権法が1964年に成立したが、その後もアフリカ系アメリカ人が大統領に選出されたことはない。
- (イ) アメリカ合衆国では、警察や自衛団による人種差別的な暴力への抗議運動は「雨傘運動」と呼ばれ、2020年に世界的に大きな注目を集めた。
- (ウ) 日本では、1899年に北海道旧土人保護法が成立したが、1997年にアイヌ文化振興法が施行されたのに伴い廃止された。
- (エ) ミャンマーでは、クルドと呼ばれる少数派のイスラーム系住民に対する迫害が続いており、2017年以降その多くがバングラデシュへと逃れている。

〔Ⅱ〕 次の文章を読んで、問(A)～問(I)に答えなさい。

第二次世界大戦後から1970年代ごろまで、日本の金融機関は、(1)と呼ばれる規制のもと行政により管理されてきた。当時の日本は、産業の復興が急務であり、低利かつ安定した資金供給がなにより重視されていた。その後、次第に金融の自由化が進み、1996年に打ち出された日本版(2)構想では、フリー(自由)・フェア(公正)・グローバル(国際)の三つの原則が掲げられた。

自由化が進む一方で、1990年代の日本経済は(3)により大きくダメージを受けており、金融機関も例外ではなかった。特に、銀行の不良債権が問題となり、1997年以降多くの銀行が経営破綻に追い込まれた。またこのころ、金融サービスにおける信用秩序維持のため(4)規制が導入されており、政府は銀行に対し自己資本比率を一定水準以上にすることを求めた。これらの結果、銀行が企業への貸し出しに極端に慎重になる(5)などの現象も見られた。

その後、政府による公的資金注入や金融機関の再編などにより、日本の金融システムは安定を取り戻した。また、1996年に政府により一時凍結されていた(6)制度も、2005年には全面解禁され、金融機関が破綻した際の預金者への払い戻し保証額が見直された。相次ぐ金融機関の再編を経て、日本の金融機関はメガバンクと呼ばれる大手銀行のグループに集約され、世界でもトップクラスの資産規模となった。

しかしながら、日本の銀行の収益力は十分とはいえない状況が続いている。銀行は元来、主要業務である預金業務と貸出業務を通じ、それぞれの金利の差額によって利潤を得てきた。しかしながら、1999年以降の相次ぐ金融緩和により、市場金利が(7)なったため、このようなビジネスでは利潤を確保できなくなっている。今後は、伝統的なビジネスの枠にとらわれず、フィンテックに代表される新しい金融サービスを中心に、新たなビジネス機会を求めることが必要になるかもしれない。

- 7 -

問(D) 下線部③について説明した次の(ア)～(エ)のうち、最も適当なものを一つ選び、その記号をマークしなさい。

- (ア) 土地を担保とした1980年代の過剰な融資が、その要因としてあげられる。
- (イ) 銀行が保有する土地の価値が、1980年代に下落したことで生じた。
- (ウ) 銀行が保有する株式の価値が、1980年代に下落したことで生じた。
- (エ) 2000年以降も増え続け、2020年に過去最高額に達した。

問(E) 下線部④に関して、次の(ア)～(エ)の文章のうち最も適当なものを一つ選び、その記号をマークしなさい。

- (ア) 国際業務を行う銀行は、自己資本比率が20%以上になるよう求められた。
- (イ) 自己資本比率に対する基準は、国内業務を行う銀行にのみ適用された。
- (ウ) 自己資本比率は、預金に対する自己資本の比率を意味する。
- (エ) 自己資本比率の自己資本は、総資本(総資産)から負債を差し引いたものである。

問(F) 下線部⑤に関して、当時の見直しを説明した次の(ア)～(エ)のうち、最も適当なものを一つ選び、その記号をマークしなさい。

- (ア) 普通預金(利子がつくもの)に対して、預金元本とその利子の全額を保証するようになった。
- (イ) 普通預金(利子がつくもの)に対して、預金元本とその利子の合計のうち半額を保証するようになった。
- (ウ) 普通預金(利子がつくもの)に対して、一金融機関あたり元本1000万円とその利子までを保証するようになった。
- (エ) 普通預金(利子がつくもの)に対して、一金融機関あたり元本2000万円とその利子までを保証するようになった。

- 9 -

問(A) 文中の(1)～(7)に入れるのに最も適当な語句を下記の語群から選び、その記号をマークしなさい。

〔語群〕

- | | | |
|--------------|-------------|-------------|
| (ア) 世界恐慌 | (イ) 追い貸し | (ウ) 貸し渋り |
| (エ) 管理通貨 | (イ) 金融ビッグバン | (ウ) 傾斜生産方式 |
| (イ) 護送船団方式 | (ウ) 重商主義 | (イ) 第二次石油危機 |
| (ウ) 高く | (イ) 低く | (イ) バブル崩壊 |
| (イ) 内部通報 | (イ) ベイオフ | (イ) ベレストロイカ |
| (イ) レッセ・フェール | (イ) 郵政民営化 | (イ) BIS |
| (イ) EMS | (イ) SDR | |

問(B) 下線部①の分類について書かれた次の(ア)～(エ)のうち、最も適当なものを一つ選び、その記号をマークしなさい。

- (ア) 都市銀行や地方銀行に代表される普通銀行は、預金取扱金融機関に分類される。
- (イ) 信用金庫や信用組合は、預金取扱金融機関には分類されない。
- (ウ) 日本政策投資銀行や日本政策金融公庫は、民間金融機関に分類される。
- (エ) 生命保険会社や損害保険会社は、ノンバンクとよばれている。

問(C) 下線部②に関して、日本の金融の自由化について書かれた次の(ア)～(エ)のうち、最も適当でないものを一つ選び、その記号をマークしなさい。

- (ア) 1981年に、日本銀行は金の保有量とは関係なく、自由に紙幣を発行できるようになった。
- (イ) 1993年に、子会社設立による銀行・証券・信託の相互参入が認められるようになった。
- (ウ) 1994年に、普通預金金利が自由化され、金利の完全自由化が達成された。
- (エ) 1998年の改正外為法施行により、内外資本取引が自由化された。

- 8 -

問(G) 下線部⑥に関して、銀行は預金貸出操作を繰り返すことにより、新たに預金を創造できる。以下の仮定のもとで、新たに生み出される預金額(信用創造額)として正しいものを、次の(ア)～(エ)から一つ選び、その記号をマークしなさい。

仮定1：最初の預金の金額は、200億円である。

仮定2：銀行の支払準備率は、10%である。

仮定3：銀行は預金を預かると、その一部を支払準備とし、残りを企業に貸し出す。企業に貸し出された資金は、預金として銀行に戻ってくる。銀行は、戻ってきた預金を同様に貸し付ける。以上のプロセスが繰り返されるものとする。

- (ア) 900億円
- (イ) 1000億円
- (ウ) 1800億円
- (エ) 2000億円

問(H) 下線部⑦に関して、日本の金融緩和について説明した次の(ア)～(エ)のうち、最も適当なものを一つ選び、その記号をマークしなさい。

- (ア) 1999年からのゼロ金利政策では、銀行の貸出金利を政策金利とし、政策金利を0%に誘導する政策がとられた。
- (イ) 2001年からの量的緩和政策では、政策目標を金利から日銀当座預金残高に切りかえ、買いオペレーションによって日銀当座預金残高を増加させた。
- (ウ) 2008年からの量的・質的金融緩和では、マネタリーベースが年間約60～70兆円規模で増加した。
- (エ) 2016年にはマイナス金利が導入され、銀行などがもつ日銀当座預金のすべてにマイナスの金利がつけられた。

- 10 -

問(I) 下線部⑧に関する次の(ア)～(エ)の文章のうち、最も適当でないものを一つ選び、その記号をマークしなさい。

- (ア) フィンテックは、金融と技術を組み合わせて作られた造語である。
- (イ) 仮想通貨(暗号資産)やアプリ決済サービスは、フィンテックの具体例といえる。
- (ウ) QRコードやバーコードを用いたスマートフォンによる決済のしかたをクラウドファンディングとよんでいる。
- (エ) フィンテックにより、銀行口座を持っていない人に対する送金も可能になっている。

〔Ⅲ〕 次の新聞記事を読んで、問(A)～問(F)に答えなさい。なお、各問題は、2024年7月1日までに参照することができた各公表資料などの内容に沿って作成されたものである。

2025年国際博覧会(大阪・関西万博)の開幕まで1年余り。大阪湾の人工島「夢洲(ゆめしま)」の会場予定地では世界最大級の木造建築物である「大屋根(リング)」や企業パビリオンなどの建設が着々と進むが、施工業者がまだ見つからない国が残り、開幕に間に合うか不安を残す。全国的な関心も高まらず、2820万人という目標入場者数の達成には強力な挽回策が必要だ。

ダンプカーが行き交う会場予定地。中央部を囲む1周2キロメートルのリングの建設は6割以上進み、日に日に伸びている。テーマ事業館8館、日本政府館、大催事場は着工済みで、企業パビリオンも13のうち10館が着工。海外パビリオンのうち、万博を運営する2025年日本国際博覧会協会が建てて参加国が利用するタイプBやCも姿を現している。

しかし、参加国が自前で設計・建設するタイプAのパビリオンは複雑なデザインや建設費の高騰からなかなか施工業者との交渉が進まず、事業者が決まったのは36カ国。5カ国がAをあきらめてタイプCなどに変更したが、約20カ国は施工業者が決まらない。

万博協会の石毛博行事務総長は「参加国にとって構想を変えるのは苦しいだろうが、現実のスケジュールをみれば苦しい選択をしなければいけない時を迎えている」と語る。

そのタイプAも2月28日に韓国起工式とインドネシア発表会、3月5日オランダ地鎮祭、7日クウェート起工式、8日英国発表会と、建設関連行事がラッシュになっている。万博協会は重機を使う基礎工事の完了の日安を10月中旬としており、タイプAの推進が最大の課題といえる。

もう一つの大きな課題が全国的な機運醸成だ。23年末時点で大阪府・市が全国6000人(うち府内4000人)を対象に実施したインターネットによるアンケートでは、万博の認知度は前年同期比6.4ポイント増の88.6%になった。だが万博に「行きたい」「どちらかといえば行きたい」との回答は合計33.8%。21年末

(51.9%)、22年末(41.2%)と、年々下がっている。

建設遅れや建設費膨張といったマイナスイメージが浸透しているとみられ、このままでは運営費の大半をまかなう入場券販売にも影響する。

万博協会は前売り入場券の目標を1400万枚としており、販売開始以来3カ月で約65万枚を販売した。全体のうち700万枚は関西経済連合会など経済界が一定のメドをつけているが、目標達成には万博の魅力を発信して一般への販売を強化する必要がある。

開幕に向けて低迷状態から巻き返すには、万博関係者が連携して対策を急がなければならない。

まず、タイプAパビリオンの建設遅れでは、施工業者が決まっていない国については最後まで実現の調整をするのはもちろんだが、物理的なタイムリミットはある。タイプBやCへの変更のほか、工期が短い簡易工法の採用が考えられる。

総合レンタル業の西尾レントホールは木材を縦横に積み重ねて強度がある直交集成板(CLT)と金物を組み合わせて短工期で建築できる工法で、インドネシア、イタリア、フィリピン3カ国のパビリオンを受注した。

30年にサウジアラビアのリヤドで開く万博では建設用3Dプリンターでの建築も検討されているといい、スピードアップを図れる最新技術を導入する実験にもなる。

施工業者が決まった国に対しても大手ゼネコンや施工業者との連携が円滑に進むよう、万博協会の調整力が求められる。

第2に、改めて万博の開催内容と意義を全国に発信すべきだ。21世紀の万博は単なる産業展示ではなく人類共通の課題解決を目的としている。万博のテーマは「いのち輝く未来社会のデザイン」。30年を目標とする持続可能な開発目標(SDGs)達成への取り組みを加速させるとともに、ポストSDGsを考え世界へ発信する機会にしなければならない。

「われわれのパビリオンは新世代に持続可能な循環型デザインというレンズを通して世界を見るインスピレーションを与える。人々に世界の見方を変えてもらう最善の方法は実際に見せること」。5日、マーク・カウパース在大阪オランダ

総理事はパビリオン地鎮祭で、万博に参加する意義をこう説明している。

第3に、一般の関心を高めるには25年万博は「参加型」であることをしっかりとアピールしたらい。企業や自治体、大学、NPO、個人が社会課題の解決に向けて万博を機に実現したいことを提案して実施する「TEAM EXPO」プログラムの共創チャレンジには内外から1600件以上の登録があり、今も増え続けている。会場には実践の場として専用パビリオンも設けられる。

身近なのはボランティア参加だ。1月末には来場者の案内などをするボランティア2万人の公募が始まり、1カ月で約6400人が応募した。6カ月の会期中に最低5日以上参加するなら応募でき、活動は1日3～6時間。4人以下のグループでも参加可能といったハードルの低さも応募が多い一因のようだ。

「これまで機会がなかったボランティアを一度経験したい。1970年万博に行った思い出もあるし」。6日、大阪市内に設けられたボランティアセンターの説明会に家族4人で訪れた同市の西川禎浩さん(64)は話す。

第4に、効果を各地へ広げていくことも重要だ。シンクタンクのアジア太平洋研究所(大阪市)は関西全体を仮想的なパビリオンに見立てて様々な催しを開く「拡張万博」を提案。拡張万博を実施すれば関西の経済波及効果は最大6200億円上振れし、3兆3667億円になると試算した。

兵庫県は県内全域をパビリオンに見立てて体験型観光などを提供する「ひょうごフィールドパビリオン」を打ち出した。「SDGsや少子高齢化など社会課題の解決で世界のモデルになるような県内の取り組みを持ち帰ってもらいたい」と、齋藤元彦知事。関西以外でも万博との連携はできるはずだ。

第5に、能登半島地震の復旧復興の妨げになると万博中止・延期論が出ているが、「いのち」がテーマの万博を復興に積極的に結びつけた方がよい。25年は阪神大震災30周年でもある。「日本の災害経験や防災力をいかに万博から世界へ発信できるか」(齋藤知事)

例えば復興や防災を議論する新たなテーマウィークや防災パビリオンを設けて世界に発信してどうか。能登半島の子どもたちを万博に招待したり、来場したインバウンド(訪日観光客)を北陸の観光地に誘導したりすることも考えられる。

6番目に、改めて来場者目線を徹底した方がよい。万博協会は当初、入場時の

検査や食中毒を理由に弁当など食品持ち込みを原則禁止としたが、吉村洋文・大阪府知事が再検討を求め、白紙に戻して検討中。大人の1日券が前売り(超早割)でも6000円という入場料を考えると、弁当を持ち込みたい人も多はずだ。

夏場の暑さ対策や、高齢者、子ども連れでも安全に楽しめることも積極的に発信したらしい。

「一過性のイベントに巨費を投じるべきではない」という意見があるが、万博は一過性のイベントではない。未来をにらんだ新技術を披露してビジネスの重要な舞台になるとともに、万博を機に実験・実証された技術や製品が万博後に社会実装されていく。

「万博は6カ月間、世界の才能が一堂に会し持続可能な道を切り開くまとない機会。新世代のチェンジメーカーを鼓舞したい」(カウパース在大阪オランダ総領事)

多くの国は議会の承認を得て国民の税金を使い意欲を持って参加する。単なる一過性のイベントに多額の投資をするだろうか。一方的に国内事情で延期や中止にするのは無責任といえる。もちろん日本政府や万博協会は一過性と言われない万博にする重い責務を負う。

25年万博はSDGsの目標年まで5年という絶妙な時期に開かれる。これまでを検証して残る5年間をどうするか。そしてその先は。会期中は「ポストSDGs」「未来のコミュニティとモビリティ」など8つのテーマウィークを設けて内外の専門家や若者が話し合い、成果を世界に発信する予定だ。30年以降を見すえて「大阪・関西万博宣言」のようなものを発出できれば、価値のある万博になるはずだ。(以下略)

(2024年3月11日付日本経済新聞電子版「イメージ低迷の大阪万博、挽回なるか 問われる発信力」【一部改変】)

(3) 財務省 HP「国債等関係諸資料」中の「国債等の保有者別内訳(令和5年12月末(速報))」によると、国債発行額の約54%にあたる国債(国債には財投債を含むとされている)を保有している者が存在する。その者として最も適当なものを次の(ア)~(ウ)から一つ選び、その記号をマークしなさい。

- (ア) 銀行等(ゆうちょ銀行、証券投資信託および証券会社を含む)
- (イ) 日本銀行
- (ウ) 年金基金

問(B) 下線部②に関連して、「環境白書・循環型社会白書・生物多様性白書(令和5年版)」(以下「環境等白書」という)に関する(x)および(y)の正誤の組合せとして最も適当なものを次の(ア)~(エ)から一つ選び、その記号をマークしなさい。

(x) 環境等白書中の「ごみ総排出量と一人一日当たりごみ排出量の推移」(図3-1-7)によると、2020年度における一人一日当たりごみ(一般廃棄物)排出量は、2013年度と比較して少ない。

(y) 環境等白書中の「最終処分量の推移」(図3-1-5)によると、2020年度最終処分量(廃棄物の埋立量)は、2000年度と比較して多い。

	(x)	(y)
(ア)	正	正
(イ)	正	誤
(ウ)	誤	正
(エ)	誤	誤

問(A) 下線部①に関連して、一般に租税で歳出をまかなうことができない場合には、その不足分が公債(国債・地方債)の発行によってまかなわれる。そのような公債等に関して、次の(1)~(3)に答えなさい。

(1) 財務省 HP「財政に関する資料」中の「一般会計税収、歳出総額及び公債発行額の推移」によると、各年度の建設公債および特例公債の発行額合計には差がある。その発行額合計が多い年度から少ない年度の順に左から並べたものとして最も適当なものを次の(ア)~(カ)から一つ選び、その記号をマークしなさい。

- (ア) 2020年度→2009年度→1991年度
- (イ) 2020年度→1991年度→2009年度
- (ウ) 2009年度→2020年度→1991年度
- (エ) 2009年度→1991年度→2020年度
- (オ) 1991年度→2020年度→2009年度
- (カ) 1991年度→2009年度→2020年度

(2) 財務省 HP「財政に関する資料」中の「債務残高の国際比較(対GDP比)」によると、日本の債務残高の対GDP比は、G7諸国と比べて突出した水準になっている(令和4年(2022年)における日本の比率は約257%である)。令和4年においてその比率が高い国から低い国の順に左から並べたものとして最も適当なものを次の(ア)~(カ)から一つ選び、その記号をマークしなさい。

- (ア) 米国→イタリア→ドイツ
- (イ) 米国→ドイツ→イタリア
- (ウ) イタリア→米国→ドイツ
- (エ) イタリア→ドイツ→米国
- (オ) ドイツ→米国→イタリア
- (カ) ドイツ→イタリア→米国

問(C) 下線部③に関連して、国立社会保障・人口問題研究所 HP「人口統計資料集(2024)」によると、各国の合計特殊出生率には差がある。2020年においてその出生率が高い国から低い国の順に左から並べたものとして最も適当なものを次の(ア)~(カ)から一つ選び、その記号をマークしなさい。

- (ア) 日本→韓国→スウェーデン
- (イ) 日本→スウェーデン→韓国
- (ウ) 韓国→日本→スウェーデン
- (エ) 韓国→スウェーデン→日本
- (オ) スウェーデン→日本→韓国
- (カ) スウェーデン→韓国→日本

問(D) 下線部④に関連して、東日本大震災に際して事故が起きた原子力発電に関する記述がある「令和3年度版原子力白書」中の「世界の原子力発電の状況」(2022年3月時点)によると、各国の原子力発電比率(総発電量に占める原子力による発電量の割合)には差がある。2020年においてその比率が最も高い国として最も適当なものを次の(ア)~(エ)から一つ選び、その記号をマークしなさい。

- (ア) フランス
- (イ) ドイツ
- (ウ) 米国
- (エ) 英国

問(E) 下線部⑤に関連して、製造物責任法は「製造物の欠陥により人の生命、身体又は財産に係る被害が生じた場合における製造業者等の損害賠償の責任について定めることにより、被害者の保護を図り、もって国民生活の安定向上と国民経済の健全な発展に寄与することを目的とする」法律である。そのような製造物責任法に関する(x)および(y)の正誤の組合せとして最も適当なものを次の(ア)～(エ)から一つ選び、その記号をマークしなさい。

- (x) 製造業者は、製造物をその製造業者が引き渡した時における科学又は技術に関する知見によっては当該製造物に欠陥があることを認識することができなかったことを証明したときには、製造物責任法によっては損害賠償責任を負わない。
- (y) 製造業者は、製造業者に過失があったことを被害者が証明することができなかったときには、製造物責任法によっては損害賠償責任を負わない。

	(x)	(y)
(ア)	正	正
(イ)	正	誤
(ウ)	誤	正
(エ)	誤	誤

問(F) 下線部⑥に関連して、次に掲げる文中の(a)に入る語句として最も適当なものを次の(ア)～(エ)から一つ選び、その記号をマークしなさい。

日本国憲法第84条は「あらたに租税を課し、又は現行の租税を変更するには、(a)又は(a)の定める条件によることを必要とする。」と定めている。

- (ア) 憲法 (イ) 法律 (ウ) 政令 (エ) 省令 (オ) 通達

〔IV〕 次の文章を読んで、問(A)～問(E)に答えなさい。

労働者は生産手段を持たず、資本家から雇われて賃金を得て生活するため、資本家から不利な労働条件を押しつけられることが多い。資本主義経済において発生するこのような労働問題に対して、19世紀以降、労働者は団結して労働条件の改善を目指す労働運動を活発化させた。各国政府は当初、労働運動に対して弾圧政策をとったが、20世紀に入ると労働問題の解決に積極的に取り組むようになった。国際的な取り組みとしては、1919年に国際機関である(1)が設立され、加盟国に対して条約や勧告により労働条件の改善を図るようになった。

日本では、第二次世界大戦後、日本国憲法第27条で(2)、第28条で労働三権が保障され、労働組合法など労働者の権利を保障するための法律が制定された。労働時間、休日、賃金などについても最低守るべき労働条件が法で定められている。例えば、法定労働時間は1日(a)時間、週(b)時間内と定められている。また、(c)歳未満の労働、(d)歳未満の深夜労働は禁止されている。

日本の労働運動は、第二次世界大戦後の民主化政策の下で活発に展開されるようになり、労働組合の育成も進んだ。しかし、近年は労働組合に参加する労働者の割合が低下傾向にある。厚生労働省の「労働組合基礎調査」による推定組織率は、2010年以降(3)%である。また、日本の労働組合には(i)が多い。(i)は欧米にみられる(ii)と比べて交渉能力が弱い、連合や全労連などの(iii)に加入することなどによって、交渉能力を高めている。

問(A) 文中の(1)～(3)に当てはまる語句として最も適当なものを次の

- (ア)～(イ)から選び、その記号をマークしなさい。
- (ア) LDC (イ) IMF (ウ) PLO (エ) ILO
 (オ) 財産権 (カ) 勤労権 (キ) 争議権 (ク) 団結権
 (ケ) 0～10 (コ) 10～20 (サ) 20～30

問(B) 下線部①を具体的に保障した法律の内容として、最も適当でないものを次の(ア)～(エ)から一つ選び、その記号をマークしなさい。

- (ア) 使用者が正当な理由なく団体交渉を拒否することは禁止されている。
- (イ) ストライキなどの争議行為を行うことを認めている。
- (ウ) 労働組合への加入を理由に労働者を解雇することは禁止されている。
- (エ) 一般職の国家公務員に労働組合をつくる権利は認められていない。

問(C) 下線部②が実際に守られているか確認し、守られていない場合は是正を指導する機関として、最も適当なものを次の(ア)～(エ)から一つ選び、その記号をマークしなさい。

- (ア) 労働基準監督署
 (イ) 労働委員会
 (ウ) 公共職業安定所
 (エ) 労働審判委員会

問(D) 文中の(a)～(d)には、労働条件の最低基準に関する数字が入る。最も適当な数字を次の(ア)～(イ)から選び、その記号をマークしなさい。

- (ア) 8 (イ) 10 (ウ) 12 (エ) 15 (オ) 16 (カ) 18
 (キ) 20 (ク) 40 (ケ) 48 (コ) 50 (サ) 60

問(E) 文中の(i)～(iii)には下線部③の種類が入る。最も適当な語句の組合せを次の(ア)～(エ)から一つ選び、その記号をマークしなさい。

- (ア) i : 企業別組合、ii : 職業別組合・産業別組合、iii : 地域ユニオン
 (イ) i : 企業別組合、ii : 職業別組合・産業別組合、iii : ナショナル・センター
 (ウ) i : 職業別組合・産業別組合、ii : 企業別組合、iii : 地域ユニオン
 (エ) i : 職業別組合・産業別組合、ii : 企業別組合、iii : ナショナル・センター

(以上)

2025年度入学試験問題

政治・経済

注意事項

- I 試験開始の指示があるまで問題用紙を開いてはいけません。
- II 解答用紙はすべて黒鉛筆(HB)〈シャープペンシルは、HB 0.5 mm 以上の芯であれば使用可〉で記入することになっています。
(万年筆・ボールペン・サインペンなどを使用してはいけません。)
- III 解答用紙右端の出席票に印刷されている受験番号を確認してください。間違いがなければ氏名欄に署名し、切取線から切り離してください。
- IV 試験時間は60分です。
- V 問題は25ページで大問4問です。

マーク記入上の注意

1. 解答欄にマークするときは、HBの黒鉛筆で次の正しい例のように、濃く正確にぬりつぶしてください。
2. マークのしかた
 - (7) 正しい例
 - a 解答が1つの場合、例えばイと解答するときは
 (1) のように、マークしてください。
 - b 解答が2つの場合、例えばイとウと解答するときは
 (1) または (1) のように各1つずつマークしてください。
 - (7) 悪い例
 - (1) ○印をかこむ。
 - (2) 全部をぬりつぶしていない。
 - (3) レ印をつける。
 - (4) |印をつける。
 - (5) 1欄に2つ以上マークする。

このような記入をしてはいけません。

3. 誤記入したマークを訂正する場合は、消しゴムで完全に消してから記入しなおしてください。
 (1) のように×印をしても消したことはありません。
4. 解答用紙を折り曲げたり、破ったり、また汚したりしないでください。

〔I〕 次の新聞記事を読んで、問(A)～問(D)に答えなさい。なお、各問題は、2024年7月1日までに参照することができた各公表資料などの内容に沿って作成されたものである。

大学生の皆さん、「お金について学ぶ」と聞くと、どんなイメージが浮かびますか。株式や外貨への投資でしょうか。2022年度から高校の授業で金融教育が必修化されました。目指すのは、資産運用だけでなく、家計管理も含めた資産形成の知識を身につけることです。皆さんも一緒に考えてみましょう。

なぜ金融教育が必要なのでしょう。背景には、日本経済の成熟化と少子高齢化があります。日本は高度経済成長期を経て豊かな暮らしを実現しましたが、同じように豊かになりたい新興国の追い上げを受け、次第に経済成長に陰りが出てきました。

しかも少子高齢化の加速で働く世代の人口が急速に縮み、公的年金の支給年齢引き上げや給付水準の抑制が避けられません。国に支えてもらうだけでなく、個人レベルで将来の資産形成に取り組む必要に迫られているわけです。

私は現在の大学生の皆さんを「金融スキマ世代」と呼んでいます。一足早く社会に出た先輩世代は、来年から新たな少額投資非課税制度(NISA)が始まるのを前に、資産づくりについて勉強しています。

一方、後輩世代の高校生は学校の授業で資産形成の基本を学び始めました。問に挟まれた皆さんはどうすればいいのでしょうか。でも心配はいりません。今から学んでも、決して遅くはないからです。

資産形成は2本柱で成り立っています。1つは収入を増やす資産運用。もう1つは支出を減らす家計管理です。資産形成というと、真っ先に投資が思い浮かぶかもしれませんが、むしろ家計管理から取り組むことをお勧めします。

家計管理の基本は何だと思いますか。それは家計簿を付ける習慣を身につけることです。でも……。言いたいことはよく分かります。家計簿は日記と並んで長続きしない代表格。なかなか始められない人も多いようです。けれども家計簿の重要性を知れば、そんな意識も変わるはずですよ。

社会人になると、どんな会社にも財務や経理という仕事があることが分かります

す。何をする部署でしょうか。そこでは将来の成長を見据え、会社のお金の出入りを管理しています。工場や店舗を増やしたり、従業員を雇ったりするにはお金が必要。そのために企業は必ず損益計算書(PL)と貸借対照表(「1」)という書類を作成します。

もうお分かりでしょう。企業のPLと(「1」)などに当たるのが、家庭の家計簿というわけです。結婚や子育て、介護など、長い人生で必要なお金を準備するには、家計にどれくらいの余裕があり、いくら節約しなければいけないかを知っておく必要があるわけです。

さて、家計管理の習慣が身についたら、次に取り組むのが資産運用です。最初に、資産運用は家計管理と違い、必ずしも思い通りにならないことを覚えておいてください。株式で運用すれば株式相場、外貨の場合は外国為替相場の影響を受けますが、相場の値動きを完全に予想することは不可能だからです。

企業業績や海外経済について自分なりに勉強し、資産運用先を選ぶ努力は大切です。

ただ株式や為替の市場では、世の中のあらゆる事象を材料にして相場が動きまわります。近年はコンピューターによる相場予測技術が飛躍的に進歩しましたが、政変や軍事衝突、異常気象といった不測の事態は読み切れないはずですよ。

資産運用の基本は、相場の急変動で大切な資産を一時で失ってしまわないように、運用先を分散させ、長期にわたって保有を続ける長期・分散投資です。

たとえば株式と債券、先進国と新興国など、値動きが必ずしも一致しない運用先に分ける方法が一般的です。多くの資産を管理するのが大変という人は、複数の運用先を束ねた投資信託を買ってリスクを分散させる方法も有効ですよ。

日本では長らく「お金の話を外でするのは卑しい」という価値観が根づいていました。けれども、お金の知識を身につけることは、将来の安定した暮らしのために不可欠です。

お金について考えることは、世の中を知ることもつながります。なぜインフレが起きたのか、米中摩擦の原因は何か――。あらゆる事象がお金の流れを通じて株式や為替の相場に映し出されます。資産形成だけでなく、未来の世界を考えるためにもお金の知識は役立つと思います。

(2023年9月6日付日本経済新聞電子版「お金の知識って何?人生設計描く一助に」〔一部改変〕)

問(A) 下線部①に関連して、日本銀行調査統計局「資金循環の日米欧比較(2023年8月25日)」中の「家計の金融資産構成」によると、日本・米国・ユーロエリアにおける家計の金融資産構成には差がある。その金融資産の合計に占める「現金・預金」の割合が高い国またはエリアから低い国またはエリアの順に左から並べたものとして最も適当なものを次の(ア)~(ウ)から一つ選び、その記号をマークしなさい。

- (ア) 米国→日本→ユーロエリア
- (イ) 米国→ユーロエリア→日本
- (ウ) ユロエリア→米国→日本
- (エ) ユロエリア→日本→米国
- (オ) 日本→米国→ユーロエリア
- (カ) 日本→ユーロエリア→米国

問(B) 下線部②に関連して、次の(1)および(2)に答えなさい。

(1) 「開発協力大綱(令和5年6月9日閣議決定)」においては開発協力における方策の一つとして「共創を実現するための連帯」があげられており、複数のパートナーとの連帯を強化していくとされている。次の(ウ)~(エ)のうち、そのパートナーとしてあげられているものはいくつあるか。最も適当な数を次の(ア)~(カ)から一つ選び、その記号をマークしなさい。

- (ウ) 民間企業
- (エ) 非政府組織(NGO)を始めとする市民社会
- (オ) 大学・研究機関等
- (カ) 知日派・親日派人材、日系人等

(ア) 0 (イ) 1 (ウ) 2 (エ) 3 (オ) 4

(2) 次の(ウ)~(エ)のうち、「開発協力大綱(令和5年6月9日閣議決定)」において「開発協力の適正性確保のための実施原則」としてあげられているものはいくつあるか。最も適当な数を次の(ア)~(カ)から一つ選び、その記号をマークしなさい。

- (ウ) 「開発途上国の民主化の定着、法の支配及び基本的人権の尊重を促進する観点からは、開発協力を実施してはならない。」
- (エ) 「テロや大量破壊兵器の拡散を防止する等、国際社会の平和と安定を維持・強化するとともに、開発途上国はその国内資源を自国の経済社会開発のために適正かつ優先的に配分すべきであるとの観点から、当該国の軍事支出、大量破壊兵器・ミサイルの開発・製造、武器の輸出入等の動向に十分注意を払う。」
- (オ) 「開発に伴う様々な環境への影響や気候変動対策に注意を払ってはならない。」
- (カ) 「開発途上国の経済社会開発を中長期的に持続可能なものとするよう、当該国の債務の持続可能性に十分配慮し、これを強化すべく、開発協力を行う。」

(ア) 0 (イ) 1 (ウ) 2 (エ) 3 (オ) 4

問(C) 下線部③に関連して、次の(ウ)~(エ)のうち、「厚生労働白書(令和5年版)」における記述として適当なものはいくつあるか。最も適当な数を次の(ア)~(エ)から一つ選び、その記号をマークしなさい。

- (ウ) 2021(令和3)年度における国民年金保険料「最終納付率(2019(令和元)年度分保険料)は、2010(平成22)年度分保険料から9年連続で減少している。」
- (エ) 「2023(令和5)年度の保険料水準は、(…)国民年金保険料が1,500円となっている。」
- (オ) 「2023(令和5)年度の給付水準は、(…)国民年金(1人分の老齢基礎年金(満額))が月額321,200円となっている。」

(ア) 0 (イ) 1 (ウ) 2 (エ) 3

問(D) 文中の(1)にあてはまる略称として最も適当なものを次の(ア)~(エ)から一つ選び、その記号をマークしなさい。

- (ア) AS (イ) BS (ウ) CS (エ) DS

問(E) 下線部④に関連して、次の(1)および(2)に答えなさい。

- (1) 「厚生労働白書(令和5年版)」における記述として最も適当でないものを次の(ア)~(エ)から一つ選び、その記号をマークしなさい。
 - (ア) 「未婚率は男女とも、どの年齢階級においても長期的に上昇してきている。」
 - (イ) 「『一生結婚するつもりはない』と答える未婚者は(…)、2021年では、男性で70.2%、女性で75.3%となった。」
 - (ウ) 「男性の各年代の人口に占める単独世帯者数の割合は、2020(令和2)年では20歳代が32.6%と最も高い。」
 - (エ) 「未婚者が考える独身生活の最大の利点は、『行動や生き方が自由』な点を挙げる者が男性では70.6%、女性では78.7%と男女問わず最多である。」

(2) 日本国憲法および民法に関する記述として最も適当でないものを次の(ア)~(エ)から一つ選び、その記号をマークしなさい。

- (ア) 日本国憲法は、「婚姻は、両性の合意のみに基いて成立し、夫婦が同等の権利を有することを基本として、相互の協力により、維持されなければならない。」と定めている。
- (イ) 日本国憲法は、「配偶者の選択、財産権、相続、住居の選定、離婚並びに婚姻及び家族に関するその他の事項に関しては、法律は、個人の尊厳と両性の本質的平等に立脚して、制定されなければならない。」と定めている。
- (ウ) 民法は、「夫婦は、婚姻の際に定めるところに従い、夫又は妻の氏を称する。」と定めている。
- (エ) 民法は、「婚姻は、十六歳にならなければ、することができない。」と定めている。

問(F) 下線部⑤に関連して、令和6年5月に「育児休業、介護休業等育児又は家族介護を行う労働者の福祉に関する法律及び次世代育成支援対策推進法」が改正された。次の(ウ)~(エ)のうち、厚生労働省HP「育児休業、介護休業等育児又は家族介護を行う労働者の福祉に関する法律及び次世代育成支援対策推進法の一部を改正する法律の概要(令和6年法律第42号、令和6年5月31日公布)」における記述として適当なものはいくつあるか。最も適当な数を次の(ア)~(エ)から一つ選び、その記号をマークしなさい。

- (ウ) 「子の行事参加等の場合に取得可能となっていた子の看護休暇の取得を不可能とする」
- (エ) 「3歳になるまでの子を養育する労働者に関し事業主が講ずる措置(努力義務)として挙げられていたテレワークを削除する」
- (オ) 「育児休業の取得状況の公表義務の対象を、常時雇用する労働者数が10,000人超(現行1,000人超)の事業主に縮小する」

(ア) 0 (イ) 1 (ウ) 2 (エ) 3

問(G) 下線部⑥に関連して、厚生労働省老健局「介護保険制度の概要(令和3年5月)」(厚生労働省HP)における記述として最も適当なものを次の(ア)～(エ)から一つ選び、その記号をマークしなさい。

- (ア) 令和2年度予算における介護保険の財源構成は、保険料50%、公費50%である。
- (イ) 65歳以上被保険者数は、2018年4月末時点で、1,123万人である。
- (ウ) 2021年度～2023年度における65歳以上が支払う保険料(全国平均(月額・加重平均))は、2000年度～2002年度と比較して、少ない。
- (エ) 2020年4月末における要介護(要支援)認定者は、2000年4月末時点と比較して、少ない。

問(H) 下線部⑦に関連して、「生成AIが質問に答えるには『グーグル』の一般的な検索の約10倍の電力を使うとされる」といわれている(2024年5月24日付日本経済新聞電子版「AIの黒子、世界の電力株にマネー」)。そのような電力に関連して、資源エネルギー庁「エネルギーに関する年次報告(令和4年度)」(以下「エネルギー白書2023」という)に関して、次の(1)～(3)に答えなさい。

- (1) 「日本では、1973年の第(a)次石油危機を契機として、電源の多様化が図られてきました。2021年度の電源構成は、(b)が34.4%(3,558億kWh)、石炭が31.0%(3,202億kWh)、新エネ等が12.8%(1,317億kWh)、水力(揚水含む)が7.5%(776億kWh)、石油等が7.4%(767億kWh)、(c)が6.9%(708億kWh)となりました」というエネルギー白書2023における記述中の(a)～(c)に入る語句の組合せとして最も適当なものを次の(ア)～(エ)から一つ選び、その記号をマークしなさい。

	(a)	(b)	(c)
(ア)	—	原子力	LNG
(イ)	—	LNG	原子力
(ウ)	二	LNG	原子力
(エ)	二	原子力	LNG

(2) エネルギー白書2023中の「ロシアによるウクライナ侵略前のG7各国の一次エネルギー自給率とロシアへの依存度」(自給率は、2021年の数値)によると、G7各国の一次エネルギー自給率(エネルギー白書2023の77頁によると「国民生活や経済活動に必要な一次エネルギーのうち、自国内で確保できる比率」を意味する)には差がある。その自給率が高い国から低い国の順に左から並べたものとして最も適当なものを次の(ア)～(エ)から一つ選び、その記号をマークしなさい。なお、エネルギー白書2023第1部第2章【第122-1-1】においては「一次エネルギー」として、石油、石炭、天然ガス、原子力、水力、再生可能エネルギー等(水力除く)があげられている。

- (ア) 米国→日本→ドイツ
- (イ) イタリア→カナダ→英国
- (ウ) カナダ→英国→日本
- (エ) カナダ→イタリア→フランス

(3) エネルギー白書2023中の「ロシアによるウクライナ侵略前のG7各国の一次エネルギー自給率とロシアへの依存度」(依存度は、日本以外の各国については2020年の数値)によると、ロシア産天然ガスに対するG7各国の依存度(天然ガス輸入量におけるロシアの割合)には差がある。その依存度が高い国から低い国の順に左から並べたものとして最も適当なものを次の(ア)～(エ)から一つ選び、その記号をマークしなさい。

- (ア) 米国→ドイツ→英国
- (イ) 米国→英国→ドイツ
- (ウ) ドイツ→米国→英国
- (エ) ドイツ→英国→米国

〔Ⅱ〕 次の会話文を読んで、問(A)～問(G)に答えなさい。

先生：日本の会社企業の形態が株式会社と(1)に分類されることは知っていますか。それぞれ簡単に説明してもらっていますか。

生徒：はい、知っています。現在の株式会社は、従来あった株式会社と2006年の(2)施行にともない新設できなくなった有限会社を統合したものです。また、(1)は、従来あった2つの形態に加えて、(2)で新設された1つの形態の計3つをいう総称です。

先生：その通りです。会社企業の形態の代表的存在は株式会社ですね。その特徴はいくつかありますが、その一つとして、出資者全員が(3)を負い、出資額などに応じて株式という出資者としての権利を割り当てられた株主ということがありますね。その他にはどんな特徴がありますか。

生徒：えーと、株式会社は、高度に専門化・分業化して運営されるしくみになっていることなどですかね。

先生：そうですね。それに関連して、今日の巨大企業の多くでみられる所有(資本)と経営の分離の進展などの特徴もありますね。巨大権力を持つようになった経営者のなかには、従業員を取り込んで会社ぐるみの不祥事を引き起こし、会社や株主だけでなく消費者、地域社会、地球環境などにまで多大な損害を与えるようになりました。

生徒：このような不祥事を防止したり、株主などの利益を損ねたりしないように企業の経営を監視すること、またその仕組みを(4)と言いますよね。

先生：その通りです。(4)の問題も含めて企業が社会に対して正と負のさまざまな影響を及ぼすこともわかってきました。企業には単なる利潤追求だけではなく企業の社会的責任があるという考えをご存じですか。

生徒：はい、知っています。(4)とも関わるところでいえば、法令・社会的規範の遵守である(5)の徹底、主に株主・投資家の利益保護のために企業の経営・財務状況を開示する(6)もその一つです。

先生：その通りです。私たち消費者に対しては、どのようなものがありますか。

生徒：そうですね。簡単にいうと、高品質な商品やサービスの提供に向けての誠

実な対応が企業に求められると思います。その一つとして、国際的に適用させる規格や標準類を制定する(7)の定めた品質保証規格の取得などがあげられると思います。

先生：その通りです。私たちの暮らす地域社会に対しては、どのようなものがありますか。

生徒：そうですね。いくつかあげると、寄付行為や従業員のボランティア活動などの慈善活動である(8)や、芸術・文化・スポーツへの支援である(9)といった社会貢献活動もあるでしょうか。

先生：その通りです。地球環境に対しては、どのようなものがありますか。

生徒：はい。これはいっぱいあるのですが、さしあたり、廃棄物を出さない取り組み、環境配慮型商品の製造・販売、また、持続可能な開発目標であるSDGs達成への支援も含まれると思います。^④

先生：その通りです。年々、株主・投資家が企業の社会的責任活動を積極的に進めているかを評価基準として企業を選別する取り組みも盛んに行われるようになってきました。これによって、社会に受け入れられる企業がもっと増えるといいですね。^⑤

問(A) 文中の(1)～(9)に入れるのに最も適当な語句を下記の語群から選び、その記号をマークしなさい。

〔語群〕

- | | |
|-------------------|-------------------|
| (ア) マイクロ・ファイナンス | (イ) 改正商法 |
| (ウ) 持分会社 | (ロ) コーポレート・ファイナンス |
| (オ) 証券会社 | (カ) ディスクロージャー |
| (キ) コーポレート・カルチャー | (ク) 持株会社 |
| (ケ) エンクロージャー | (コ) IPO |
| (ク) コンプライアンス | (シ) ILO |
| (ス) インフォームド・コンセント | (セ) メシア |
| (ツ) 会社法 | (タ) ビューロクラシー |
| (チ) フィランソロピー | (ツ) 無限責任 |
| (テ) コンシューマリズム | (ト) 金融商品取引法 |
| (ト) 有限責任 | (ニ) ガルブレイス |
| (ニ) メセナ | (ネ) フィロソフィー |
| (ホ) コーポレート・ガバナンス | (ハ) ゼロ・エミッション |
| (ヘ) ISO | |

問(B) 下線部①の形態に含まれるものとして、最も適当でないものを次の(ア)～(エ)から一つ選び、その記号をマークしなさい。

- (ア) 合同会社
- (イ) 合弁会社
- (ウ) 合資会社
- (エ) 合名会社

問(C) 下線部②に関して、通常、株式会社の業務執行(代表取締役の選定および解職などの具体的な経営方針)を決定する機関として最も適当なものを次の(ア)～(エ)から一つ選び、その記号をマークしなさい。

- (ア) 取締役会
- (イ) 報酬委員会
- (ウ) 監査役会
- (エ) 株主総会

問(D) 下線部③に関して、環境問題、高齢者支援などの問題の解決を目的として収益事業を行う新しいタイプの企業として最も適当なものを次の(ア)～(エ)から一つ選び、その記号をマークしなさい。

- (ア) 公企業
- (イ) 公私合同企業
- (ウ) 多国籍企業
- (エ) 社会的企業

問(E) 下線部④に関して、SDGsには大きな分類である目標とそれぞれの目標達成のために細かく分類された具体的なターゲットがある。この目標数とターゲット数の組合せとして最も適当なものを次の(ア)～(エ)から一つ選び、その記号をマークしなさい。

- (ア) 17 — 196
- (イ) 19 — 196
- (ウ) 17 — 169
- (エ) 19 — 169

問(F) 下線部⑤に関して、SDGsの前身であるMDGsの達成期限の年として最も適当なものを次の(ア)～(エ)から一つ選び、その記号をマークしなさい。

- (ア) 2005
- (イ) 2010
- (ウ) 2015
- (エ) 2020

問(G) 下線部⑥に関して、環境、社会および企業統治に配慮している企業に注目して行う投資として最も適当なものを次の(ア)～(エ)から一つ選び、その記号をマークしなさい。

- (ア) 設備投資
- (イ) 公共投資
- (ウ) R&D投資
- (エ) ESG投資

〔Ⅲ〕 次の文章を読んで、問(A)～問(F)に答えなさい。なお、文章中の引用箇所は一部省略・改変している。

学生X、学生Y、学生Zは、政治思想家の文献を大学の図書館から借りて持ち寄った。

学生X「2人とも本は借りてきた？」

学生Y「もちろん！面白そうな本ばかりで、どれを借りようか迷ったけれどね。」

学生Z「私は、高校の政治・経済の授業で習ったジョン・ロックの『統治二論』を借りてきたよ。」

学生X「ロックの『統治二論』は有名だけれども、実際に読むのは初めてだね。」

学生Y「ロックって、自然状態を脱して国家をつくるために、私たちは社会契約を結ぶべきだと主張した人だよな？」

学生Z「そうだね。借りてきた本には以下のように書かれているよ。」

(著作権者の許諾を得られていないため、掲載していません。)

(ジョン・ロック(加藤節訳)『完訳 統治二論』岩波文庫、406頁)

(著作権者の許諾を得られていないため、掲載していません。)

(同上、473頁)

— 15 —

「さてわれわれは、(中略)決定を行なうべき人々の選挙を第一義的なものとし、選挙民による問題の決定を第二義的たらしめよう。これをやや言い換えるならば、われわれはここで、人民の役割は政府をつくること、ないしはあらためて国民的行政執行府または政府をつくり出すべき中間体をつくることにある、という見解に立つことになる。」(シュムペーター(中山伊知郎・東畑精一訳)『新装版 資本主義・社会主義・民主主義』東洋経済新報社、429～430頁)

学生X「なるほど、私たち市民は選挙で代表者を選ぶ役割を負っているのか。」

学生Y「富裕層や男性だけに選挙権を認めていた時代は、一部の市民から役割を奪っていたことを意味するわけだね。図書館の書庫でジョン・スチュアート・ミルの『女性の解放』という本を見つけたよ。ミルは、国政選挙における女性の参政権が日本で認められた通か以前、1869年時点で男女同権を唱えているよ。」

(著作権者の許諾を得られていないため、掲載していません。)

(J. S. ミル(大内兵衛・大内節子訳)『女性の解放』岩波文庫、36頁)

学生Z「日本は、1985年に女性差別撤廃条約の批准を機に、男女同権を目指した法整備が進化したよね。国内の政府や議会、市民だけでなく、国際法や国際組織も民主政治の成立に影響を与えていそうだね。」

学生X「イマヌエル・カントの『永遠平和のために』によれば、国際法や国際組織は、世界の恒久的な平和のためにも重要な役割を果たすことが期待されているよ。」

(著作権者の許諾を得られていないため、掲載していません。)

— 17 —

学生X「ロックの思想は、今日の民主政治にも通じているね。」

学生Y「民主政治のあり方については、私が借りてきたシャルル・ド・モンテスキューの『法の精神』も示唆に富んでいるよ。」

(著作権者の許諾を得られていないため、掲載していません。)

(モンテスキュー(井上堯裕訳)『法の精神』中公クラシックス、130頁)

学生Z「権力を複数の機関に分担させることで抑制と均衡を図る権力分立論だ^①ね。」

学生X「権力を制限する発想は、ハーバート・スペンサーの『政府固有の領域』という論文にも表れているよ。スペンサーは過剰な国家介入に批判的で、政府の役割を『自然権の保護』などに限定しているね。」

(著作権者の許諾を得られていないため、掲載していません。)

(ハーバート・スペンサー(金田耕一訳)『政府固有の領域』、杉田敦・川崎修編『西洋政治思想資料集』法政大学出版局、212頁)

学生Y「議会制民主主義における政府の役割はイメージできたけれど、私たち市民の役割は何なのだろう？」

学生Z「市民の役割については、ヨーゼフ・シュンペーターの『資本主義・社会主義・民主主義』が議論しているよ。これも図書館で借りてきたから、参考になりそうな一節を紹介するね。」

— 16 —

(著作権者の許諾を得られていないため、掲載していません。)

(カント(宇都宮芳明訳)『永遠平和のために』岩波文庫、39～40頁)

学生Y「まるで、政治思想家たちと直接対話しているみたいだね。」

学生Z「これからも図書館で色んな本を借りて読んでいこう！」

問(A) 文中の(1)と(2)に入れるのに最も適当な語句を下記の語群から選び、その記号をマークしなさい。

〔語群〕

- (ア) 自己保存を求めて闘争する
- (イ) 自由で平等で独立した
- (ウ) 一般意志に服従する
- (エ) 司法権力
- (オ) 立法権力
- (カ) 行政権力

問(B) 下線部①に関連して、日本における権力分立についての説明として最も適当なものを次の(ア)～(イ)から一つ選び、その記号をマークしなさい。

- (ア) 行政機関は、終審として裁判を行うことができない。
- (イ) 罷免の訴追を受けた裁判官を裁判するために設ける弾劾裁判所は、衆議院議員のみで組織されなければならない。
- (ウ) 内閣による行政権の行使は、国会に対して内閣総理大臣のみが責任を負う。
- (エ) 内閣総理大臣その他の国務大臣は、全て国会議員でなければならない。

— 18 —

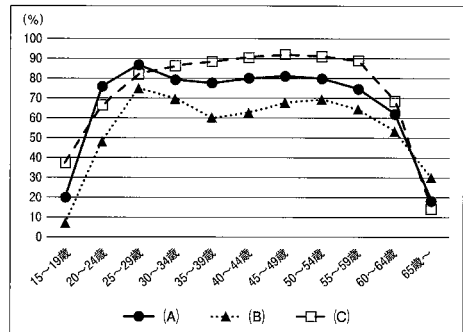
- 問(C) 下線部②に関連して、日本では、内閣総理大臣による靖国神社の参拝が争点化されてきた。内閣総理大臣の在任中に靖国神社に参拝した人物についての説明として最も適当なものを次の(ア)～(エ)から一つ選び、その記号をマークしなさい。
- (ア) 歴代の内閣総理大臣の中で初めてその在任中の8月15日に靖国神社を参拝した三木武夫は、ロッキード事件を暴露されて退任後に逮捕された。
 - (イ) 1985年8月15日に内閣総理大臣として公式に靖国神社を参拝した中曽根康弘は、内閣総理大臣の在任中、郵政民営化を実現させた。
 - (ウ) 1996年7月29日に靖国神社を参拝した橋本龍太郎は、内閣総理大臣の在任中、防衛庁を防衛省に昇格させた。
 - (エ) 内閣総理大臣の在任中、幾度となく靖国神社に参拝した小泉純一郎は、日本の内閣総理大臣として初めて北朝鮮を訪問し、日朝首脳会談を行った。

- 問(D) 下線部③に関連して、ドイツやフランスにおける大統領の選出方法を説明した次の(a)と(b)について、その正誤の組合せとして最も適当なものを次の(ア)～(エ)から一つ選び、その記号をマークしなさい。
- (a) ドイツの大統領は、普通・直接・自由・平等および秘密の選挙によって選出される。この選挙では、18歳に達したすべてのドイツ人が選挙権を有する。
 - (b) フランスの大統領は、5年の任期で、直接普通選挙によって選出される。なお、連続して2期を超えて任期を務めることはできない。

	(a)	(b)
(ア)	正	正
(イ)	正	誤
(ウ)	誤	正
(エ)	誤	誤

- 問(E) 下線部④に関連して、学生Yは帰宅後、内閣府男女共同参画局による「令和4年版 男女共同参画白書」で女性の労働をめぐる現状について調べた。図1は、「令和4年版 男女共同参画白書」に掲載されている、女性の年齢別労働力率について日本を含む6カ国で比較したグラフの一部を抜粋したものである。なお、労働力率とは、「労働力人口(就業者+完全失業者)」/「15歳以上人口」×100で算出される。図1では、その労働力率を年齢別に計算している。図1に示した(A)～(C)の3カ国のうち、日本を示すグラフはどれか。最も適当なものを次の(ア)～(エ)から一つ選び、その記号をマークしなさい。

図1 女性の年齢別労働力率



出典：内閣府男女共同参画局「令和4年版 男女共同参画白書」

- (ア) (A)の国
- (イ) (B)の国
- (ウ) (C)の国
- (エ) (A)～(C)のいずれの国でもない

- 問(F) 下線部⑤に関連して、次の(1)および(2)に答えなさい。
- (1) カントが『永遠平和のために』において提唱した構想は、第一次世界大戦後に国際連盟として具体化されていった。それでは、国際連盟の設立を含む14カ条の平和原則を提唱したアメリカの大統領として最も適当なものを次の(ア)～(エ)から一つ選び、その記号をマークしなさい。
- (ア) セオドア・ローズベルト
 - (イ) ウッドロー・ウィルソン
 - (ウ) フランクリン・ローズベルト
 - (エ) リチャード・ニクソン
- (2) 第二次世界大戦後に設立された国際連合の原加盟国として最も適当でないものを次の(ア)～(エ)から一つ選び、その記号をマークしなさい。
- (ア) アルゼンチン
 - (イ) イタリア
 - (ウ) インド
 - (エ) フランス

〔IV〕 次の文章を読んで、問(A)～問(C)に答えなさい。

私たちの生活において貿易は身近な存在である。例えば、洋服屋さんに行けば、その洋服が中国やバングラデシュなどのアジア諸国で作られたものであることは珍しくない。洋服を買った帰り道で喫茶店に立ち寄ってコーヒーとケーキを注文すれば、コーヒー豆はブラジルなどの外国産であろうし、ケーキの原材料である小麦の多くはアメリカなどから輸入されている。また、海外旅行をして現地でタクシーを呼べば、日本車が迎えに来ることもあるだろう。その日本車は日本で生産して輸出されたものかもしれないし、あるいは別の国で生産されたものなのかもしれない。

国際的に分業して、生産物を貿易することは各国にとってよいことなのだろうか。①それとも、一国に必要なすべての商品を国内生産でまかなう自給自足経済のほうがよいのだろうか。自由な貿易を支持するひとつの根拠として用いられるイギリスの経済学者(1)が提示した考え方について見てみよう。

A国とB国で工業品1単位と衣料品1単位を生産するのに必要な労働量が表1のように定められているとする。また、A国の労働力人口を30人、B国の労働力人口を60人とする。

表1：各国の労働の生産性

	工業品を1単位生産するのに必要な労働量	衣料品を1単位生産するのに必要な労働量
A国	5人	10人
B国	45人	15人

表1より、A国はB国に比べて工業品・衣料品ともに少ない労働量で生産でき、生産性が高いといえる。この場合、A国はB国に対して、どちらの商品も(2)優位にあるという。これに対して、(3)優位という考え方がある。表1から、A国が工業品の生産を1単位増加させたければ、そのために必要な労働力を衣料品の生産部門から引き抜かなければならず、それにより0.5単位の衣

料品の生産をあきらめなければならない。一方で、B国は工業品1単位を増産するためには3単位の衣料品の生産をあきらめなければならない。このことから、A国のほうが工業品の生産によって犠牲にしなければならない衣料品の生産量は少なく済むことがわかる。この場合、A国は工業品の生産に(3)優位をもつという。同様に衣料品の1単位の増産を考えてみれば、B国は衣料品の生産に(3)優位をもつこともわかる。

表2のように各国の工業品と衣料品の生産量が表されているものとする。貿易を行わなければ、国内で生産された各商品をそのまま国内で消費することになる。表2は表1の各国の労働の生産性と各国の労働力人口を使って計算されたものである。例えば、A国の衣料品の生産量は次のように計算される。表2にあるように仮にA国の工業品の生産量を2単位とするならば、A国のすべての労働力人口30人が生産に従事するためには、衣料品の生産量は2単位でなければならない。すなわち、

$$\begin{aligned} & \text{工業品の生産量} 2 \text{ 単位} \times 5 \text{ 人} + \text{衣料品の生産量} x \text{ 単位} \times 10 \text{ 人} \\ & = \text{労働力人口} 30 \text{ 人} \end{aligned}$$

が成立するように、 $x=2$ が定まる。同様の考え方で、表2のB国の工業品の生産量を(4)単位と求めることができる。

表2：自給自足経済における生産量と消費量

	工業品の生産量・消費量	衣料品の生産量・消費量
A国	2単位	2単位
B国	(4)単位	1単位

次に貿易をする場合の経済について考える。それぞれの国が(3)優位のある商品に生産を完全に特化(集中)した場合、各国の生産量は表3のようになる。ここで、表3もまた表2と同様の方法で、表1の各国の労働生産性と各国の労働力人口を使って計算されている。両国あわせた各商品の生産量は自給自足経済よ

りも増えているので、各商品を互いに貿易することで両国とも豊かになりうる。

表3：各国が完全に特化した場合の生産量

	工業品の生産量	衣料品の生産量
A国	(5)単位	0単位
B国	0単位	(6)単位

例えば、A国が3単位の工業品をB国に輸出し、B国が2.5単位の衣料品をA国に輸出したとする。このとき、A国の工業品の消費量は(7)単位となり、B国の工業品の消費量は3単位となる。一方で、A国の衣料品の消費量は2.5単位となり、B国の衣料品の消費量は(8)単位となる。したがって、両国とも自給自足経済よりも多くの消費をすることができているので、双方の国が貿易から利益を得ている。以上のような貿易の利益を根拠に経済学者(1)は自由な貿易を推奨した。

しかし、必ずしもすべての経済学者が自由貿易を支持しているわけではない。発展途上国は将来的に先進国へ発展する可能性があるので、その発展の芽を摘ま^②ないように、保護貿易によってまだ国際競争力を持たない産業を守るべきであるという主張もある。

問(A) 文中の(1)～(8)に入れるのに最も適当な語句を下記の語群から選び、その記号をマークしなさい。

〔語群〕

- | | | | |
|----------|----------|----------|---------|
| (ア) 0 | (イ) 0.5 | (ウ) 1 | (エ) 1.5 |
| (カ) 2 | (ク) 2.5 | (ケ) 3 | (コ) 3.5 |
| (ク) 4 | (コ) 5 | (サ) 6 | (シ) 7 |
| (ス) 8 | (セ) 9 | (ソ) リカード | (タ) ケネー |
| (チ) マルクス | (ツ) マルサス | (テ) 相対 | (ト) 比較 |
| (ナ) 絶対 | (ニ) 中立 | | |

問(B) 下線部①に関連する以下の文章を読んで、文中の(a)と(b)に入れるのに最も適切な語句の組合せを次の(ア)～(エ)から一つ選び、その記号をマークしなさい。

国際分業には二つの型がある。(a)的分業は先進国間の分業であり、それぞれの国が特定の工業製品に特化して貿易する。他方で、先進国が高度な工業製品を生産し、発展途上国がその原材料や部品、あるいは労働集約的な工業製品に特化する(b)的分業がある。発展途上国は発展するにともなって(a)的分業へと移行する。

- (ア) a：垂直 b：水平
 (イ) a：水平 b：垂直
 (ウ) a：直角 b：平行
 (エ) a：平行 b：直角

問(C) 下線部②のような主張を19世紀半ばにしたドイツの経済学者として最も適当なものを次の(ア)～(エ)から一つ選び、その記号をマークしなさい。

- (ア) リスト
 (イ) ハイエク
 (ウ) トービン
 (エ) ノイマン

(以上)

2025年度入学試験問題

政治・経済

注意事項

- I 試験開始の指示があるまで問題用紙を開いてはいけません。
- II 解答用紙はすべて黒鉛筆(HB)〈シャープペンシルは、HB 0.5 mm 以上の芯であれば使用可〉で記入することになっています。
(万年筆・ボールペン・サインペンなどを使用してはいけません。)
- III 解答用紙右端の出席票に印刷されている受験番号を確認してください。間違いがなければ氏名欄に署名し、切取線から切り離してください。
- IV 試験時間は60分です。
- V 問題は18ページで大問4問です。

マーク記入上の注意

1. 解答欄にマークするときは、HBの黒鉛筆で次の正しい例のように、濃く正確にぬりつぶしてください。
2. マークのしかた
 - (ア) 正しい例
 - a. 解答が1つの場合、例えばイと解答するときは
 (1) (イ) (ロ) (ハ) (ニ) のように、マークしてください。
 - b. 解答が2つの場合、例えばイとウと解答するときは
 (1) (イ) (ロ) (ハ) (ニ) または (1) (イ) (ロ) (ハ) (ニ) のように各1つずつマークしてください。
 - (イ) 悪い例

(1) <input type="radio"/> (イ) <input type="radio"/> (ロ) <input type="radio"/> (ハ) <input type="radio"/> (ニ) <input type="radio"/>	○印でかこむ。	このような記入をしてはいけません。
(2) <input type="radio"/> (イ) <input type="radio"/> (ロ) <input type="radio"/> (ハ) <input type="radio"/> (ニ) <input type="radio"/>	全部をぬりつぶしていない。	
(3) <input type="radio"/> (イ) <input type="radio"/> (ロ) <input type="radio"/> (ハ) <input type="radio"/> (ニ) <input type="radio"/>	レ印をつける。	
(4) <input type="radio"/> (イ) <input type="radio"/> (ロ) <input type="radio"/> (ハ) <input type="radio"/> (ニ) <input type="radio"/>	↑印をつける。	
(5) <input checked="" type="radio"/> (イ) <input checked="" type="radio"/> (ロ) <input checked="" type="radio"/> (ハ) <input checked="" type="radio"/> (ニ) <input checked="" type="radio"/>	1欄に2つ以上マークする。	
3. 一度記入したマークを訂正する場合は、消しゴムで完全に消してから記入しなおしてください。
 (1) (イ) (ロ) (ハ) (ニ) のように×印をしても消したことはありません。
4. 解答用紙を折り曲げたり、破ったり、また汚したりしないでください。

〔I〕 次の文章を読んで、問(A)~問(C)に答えなさい。

2023年10月、パレスチナ暫定自治区のガザ地区を実効支配するイスラム組織ハマスが、ロケット弾や戦闘員の侵入によってイスラエルを攻撃し、多数の人質を拘束した。これに対しイスラエルは反撃し、地上作戦を展開した。イスラエルに対する武装闘争を続けてきたハマスを、(1)は支援してきた。(2)のシリア派組織ヒズボラや、(3)の反政府組織フーシ派など、(1)が支援する武装組織は、イスラエルに対する越境攻撃を行った。フーシ派は、紅海を航行する船舶を攻撃し、日本企業が運航する船舶も拿捕された。(4)と(5)は、フーシ派の拠点に軍事攻撃した。ガザ地区と境界を接し難民の流入を恐れる(6)や、首都ドーハにハマスの政治部門幹部が拠点を置くことを認めてきた(7)は、停戦や人質解放に向けた仲介を試みた。しかし、2024年5月には、ガザ最南部のラファ検問所付近で、イスラエル軍と(6)軍の銃撃戦が発生した。なお、同月、ヘリコプターの墜落事故で死亡した(1)のエブラヒム・ライシ大統領やホセイン・アブドラヒアン外相の葬儀が営まれ、ハマスやヒズボラの指導者も参列した。

なぜ、このような衝突が起きたのか。パレスチナ問題の経緯を振り返ってみよう。

第一次世界大戦中、(5)は、パレスチナのアラブ人には戦後の独立を、ユダヤ人には「ナショナル・ホーム」の建設を許すという相矛盾する密約を結んだ。戦後、この地は(5)の委任統治領となったが、ナチスのユダヤ人迫害もありユダヤ人のパレスチナ移住が急増し、現地のアラブ人との対立が激化した。第二次世界大戦後、パレスチナの地にユダヤ人国家イスラエルが誕生したが、アラブ側はこれを認めず、4度にわたる戦争が起こった。この戦争でイスラエルは(8)川西岸やガザ地区を占領した。難民となったパレスチナ人を中心にパレスチナ解放機構(PLO)が設立された。また、イスラエル占領地域に住むことになったパレスチナ人は、民衆蜂起で対抗した。

1993年、ノルウェーの仲介により、イスラエルとPLOとの間で暫定自治協定(オスロ合意)が結ばれ、1996年には(8)川西岸の一部とガザ地区において

暫定自治政府が成立したが、2000年以降、再び武力衝突が激しくなった。(4)などが仲介する形で中東和平交渉が続けられ、一定の進展も見られたが、イスラエルは(8)川西岸地区に分離壁を構築し入植を進めるなど強硬策をとってきた。2017年にエルサレムをイスラエルの首都と認定するなど、(4)の歴代政権が中東政策を目まぐるしく変えてきたことも、中東和平を難しくする一因である。

問(A) 文中の(1)~(8)に入れるのに最も適当な語句を下記の語群から選び、その記号をマークしなさい。

〔語群〕

- | | | |
|--------------|-----------|---------|
| (ア) アラブ首長国連邦 | (イ) イエメン | (ウ) イラク |
| (エ) サウジアラビア | (ロ) カタール | (カ) イラン |
| (キ) フランス | (ク) レバノン | (ケ) ロシア |
| (コ) アフガニスタン | (ク) アメリカ | (セ) シリア |
| (ク) クウェート | (セ) エジプト | (ソ) トルコ |
| (ケ) イギリス | (チ) オマーン | (ツ) ドイツ |
| (コ) ヨルダン | (ト) バーレーン | |

問(B) 下線部①に関連して、この地上作戦を行った際のイスラエルの首相は誰か。最も適当な語句を次の(ア)~(イ)から一つ選び、その記号をマークしなさい。

- (ア) ヤーセル・アラファト
- (イ) イツハク・ラビン
- (ウ) マフムード・アッバス
- (エ) ベンヤミン・ネタニヤフ

問(C) 下線部②に関連して、イスラエルに対するパレスチナ人の民衆蜂起を表す語句として最も適当なものを次の(ア)～(エ)から一つ選び、その記号をマークしなさい。

- (ア) シオニズム
- (イ) インティファダ
- (ウ) アルジャジーラ
- (エ) ラマダン

— 3 —

情に対応したあるべき税制について検討し、国民的な合意を得ることが重要である。

また、経済のグローバル化も、税をめぐる状況に変化をもたらしている。例えば、法人税を減免している(6)を利用した多国籍企業による租税回避が、国際的な問題として認識されるようになった。こうした状況への対処として、2021年にOECD加盟国を含む136カ国・地域は、最低法人税率を(7)%とすることに合意している。

問(A) 文中の(1)～(7)に入れるのに最も適当な語句を下記の語群から選び、その記号をマークしなさい。

〔語群〕

- | | |
|-----------------|----------------|
| (ア) 相続税 | (イ) 贈与税 |
| (ウ) 固定資産税 | (エ) 地方交付税 |
| (オ) 酒税 | (カ) 入湯税 |
| (キ) 益税 | (ク) e-Tax |
| (ケ) タックス・ハイブン | (コ) キャピタルフライト |
| (ク) 経済安定九原則 | (サ) シャウプ勧告 |
| (ス) ベバリッジ報告 | (セ) ベーシック・インカム |
| (ソ) 租税法主義 | (タ) 三位一体の改革 |
| (チ) 社会保障と税の一体改革 | (ツ) ふるさと創生事業 |
| (テ) 5 | (ト) 10 |
| (ト) 15 | (ニ) 20 |

— 5 —

〔Ⅱ〕 次の文章を読んで、問(A)～問(E)に答えなさい。

財政とは、国や地方公共団体の政府が行う経済活動のことである。財政収入の中心が租税である。

租税は、いくつかの視点から分類できる。国税と地方税は、国と地方という課税主体に注目した分類である。また、直接税と間接税は、納税者と担税者が同一であるかどうかという点に注目した分類である。例えば、(1)は国税かつ間接税、(2)は地方税かつ直接税に分類される。

2023年度の税収は、国税が69兆4400億円(当初予算額)、地方税が42兆9397億円(当初見込額)となっている。2000年代の(3)により、地方分権がうながされ、国から地方への税源移譲が進められたが、依然として国の税収は地方の税収よりも多く、国庫支出金や(4)のような国から地方への財政移転が、地方財政の歳入に占める割合は小さくない。

国税69兆4400億円の内訳をみると、23兆3840億円の消費税が最も多く、21兆480億円の所得税がそれに続いている。戦後の日本では、1949年の(5)によって直接税中心の税制がしかれ、所得税は財源調達に基幹的な役割を担ってきた。一方、間接税である消費税は、1989年に導入され、その後数回の税率引き上げを経て、2023年度においては、所得税を超える額となっている。

所得税と消費税という二つの税には、それぞれ異なるメリットとデメリットがある。所得税は、累進課税制度により所得が高くなるほど税を多く負担する仕組みになっており、(a)をはかることができる。しかし、働き方によって所得の捕捉率に違いがあるため、(b)を満たさないことがある。それに対して消費税は、同一税率であれば、同じ支出額の個人は同じ税額負担となることから、(c)に優れている。他方、低所得者ほど所得との比較で相対的に負担割合が大きくなるため、逆進的であるという指摘がある。こうした消費税の逆進性による負担感の緩和を目的に、2019年に軽減税率制度が導入された。

高齢化を背景とする社会保障費の増大などにより、今後も政府支出の拡大が予想される中で、その財源をどのように負担するかが日本の大きな課題となっている。それぞれの税がもつメリットやデメリットを考慮しながら、経済・社会の実

— 4 —

問(B) 下線部①に関して、財政の機能を示す例として最も適当でないものを次の(ア)～(エ)から一つ選び、その記号をマークしなさい。

- (ア) 市場の働きでは十分に供給されない財・サービスを供給する。
- (イ) 社会保障制度により、所得の再分配を行う。
- (ウ) マネタリーベースを操作することを通じて、景気を調整する。
- (エ) 不況期に減税することで、国民の消費需要を増加させる。

問(C) 下線部②に関して、所得税についての記述として最も適当なものを次の(ア)～(エ)から一つ選び、その記号をマークしなさい。

- (ア) 累進的な所得税は、人々の勤労意欲に影響を与えることのない中立的な税である。
- (イ) 所得税収は、消費税収と比較すると、景気の影響を受けにくいため安定的な財源となる。
- (ウ) 消費税が導入された1989年には、所得税の最高税率も大幅に引き上げられた。
- (エ) 2020年頃において、国税収入に占める所得税収入の割合は、アメリカの方が日本よりも高い。

問(D) 下線部③に関して、現在の日本の所得税制において、課税される所得金額にかかるとして最も適当なものを次の(ア)～(エ)から一つ選び、その記号をマークしなさい。

- (ア) 37% (イ) 40% (ウ) 45% (エ) 50%

問(E) 文中の(a)～(c)に入れるのに最も適当な語句の組合せを次の(ア)～(エ)から一つ選び、その記号をマークしなさい。

- (ア) a：垂直的公平 b：水平的公平 c：垂直的公平
- (イ) a：垂直的公平 b：水平的公平 c：水平的公平
- (ウ) a：水平的公平 b：垂直的公平 c：垂直的公平
- (エ) a：水平的公平 b：垂直的公平 c：水平的公平

— 6 —

問(F) 下線部④に関して、軽減税率制度の対象として最も適当なものを次の(ア)～(カ)から一つ選び、その記号をマークしなさい。

- (ア) 酒類 (イ) 外食 (ウ) 新聞 (エ) 書籍

問(G) 下線部⑤に関して、社会保障についての記述として最も適当なものを次の(ア)～(カ)から一つ選び、その記号をマークしなさい。

- (ア) 公的年金制度は、少子高齢化に対応するために、2004年に賦課方式から積立方式に移行した。
 (イ) 後期高齢者医療制度は、65歳以上の後期高齢者を被保険者とする制度である。
 (ウ) 2000年代以降、生活保護の被保護世帯数に占める母子世帯の割合は、高齢者世帯の割合よりも大きい。
 (エ) 介護保険制度では、40歳以上の人が保険料を負担する。

問(H) 下線部⑥に関して、次の表は、日本、フランス、スウェーデンの3カ国における2020年の国民負担率および租税負担率を示したものである。表中の国A～国Cにあてはまる国名の組合せとして最も適当なものを次の(ア)～(カ)から一つ選び、その記号をマークしなさい。

	国A	国B	国C
国民負担率 (対国民所得比)	69.9%	54.5%	47.9%
租税負担率 (対国民所得比)	45.0%	49.5%	28.2%

注：日本のみ年度。

資料：財務省「日本の財政関係資料(令和5年4月)」

- (ア) A：日本 B：フランス C：スウェーデン
 (イ) A：日本 B：スウェーデン C：フランス
 (ウ) A：フランス B：日本 C：スウェーデン
 (エ) A：フランス B：スウェーデン C：日本
 (オ) A：スウェーデン B：日本 C：フランス
 (カ) A：スウェーデン B：フランス C：日本

問(I) 下線部⑦に関して、法人税について述べた文として最も適当なものを次の(ア)～(カ)から一つ選び、その記号をマークしなさい。

- (ア) 法人税は、納税者と担税者が異なる税である。
 (イ) 日本の法人税率は、1980年代後半以降、段階的に引き下げられてきた。
 (ウ) 日本に存在するすべての企業が、利益の有無にかかわらず法人税を納める必要がある。
 (エ) 法人税収は、2022年度に戦後最高額を更新した。

〔Ⅲ〕 次の文章を読んで、問(A)～問(F)に答えなさい。なお、文章については、文部省「民主主義 下」(文部省、1949年)を一部改変した。

国民によって選ばれ、国民に代わって政治のことをつかさどる公務員には、いろいろあるが、その中でもいちばん重要なものは、主として「立法」のことにあたるところの国会の議員である。国家の公務には、立法のほか「行政」と「司法」とがあって、それらをつかさどる人々も、国民の代表者であることには変わりはない。しかし、行政を行う国務大臣や、司法のことにあたる裁判官は、国民が直接に選ぶわけではない。国務大臣のうち、内閣総理大臣は、国会の(1)によって決まるし、その他の国務大臣は総理大臣が(2)する。裁判官も内閣の(2)による。だから、行政や司法にたずさわる公務員は、国民によって間接に選ばれるのである。これに対して、国会の議員は、国民が直接に選ぶところの公務員である。国会議員の選挙が(3)たる国民にとってどんなにたいせつな仕事であるかは、これによってもきわめて明らかであろう。

国会は、衆議院と参議院との両院から成っている(日本国憲法第42条)。だから、新憲法によって定められた立法機関は、二院制である。しかし、この二院制は、明治憲法の二院制とはひじょうに違っている。明治憲法で衆議院とならなっていた貴族院の議員は、国民の中のごく一部の特権階級、すなわち、皇族・(4)・多額納税者などから選ばれた。これに反してこんどの参議院議員は、衆議院議員とまったく同じように、国民全体の中から選ばれたほんとうの国民の代表者である(同第43条)。だから、参議院は、衆議院となら変わらないりっぱに民主的な立法機関であるということが出来る。

もともと、参議院は衆議院に比べると、かなり権限が弱い。ごく簡単にいうと、国会が法律案を議決したり、(5)を決定したり、国際条約の締結を承認したり、内閣総理大臣を(1)したりする場合、もしも両議院の意見が一致しなければ、衆議院の議決が優先することになっている(同第59・60・61・67条)。この点は、イギリスの庶民院と貴族院の関係に似ているのである。

しかし、参議院は、イギリスの貴族院よりは、ずっと民主的にできている。したがって、ある場合には、新憲法も、参議院に衆議院とまったく同等の権限を与

えている。たとえば、憲法改正の場合などがそれで、憲法改正案の発議にあたっては、両議院のおのおのの総議員の3分の2以上の賛成が必要だから、参議院議員の3分の1を超える反対があると、その案は提出されえないことになる(同第96条)。こうみてくると、参議院と衆議院とは互いに助けあって国会を形作っているのであって、その重要性においては変わりはないといわなければならない。このようにして構成されているところの国会は、国権の(6)の機関であり、国のただ一つの立法機関である(同第41条)。国会が国のただ一つの立法機関であるということは、民主主義の立場からみて、ひじょうに重大な意味を持っている。

問(A) 文中の(1)～(6)に入れるのに最も適当な語句を下記の語群から選び、その記号をマークしなさい。

〔語群〕

- (ア) 仲裁 (イ) 予算 (ウ) 裁定
 (エ) 中立 (オ) 天皇 (カ) 決算
 (キ) 最高 (ク) 総覧者 (ケ) 士族
 (コ) 国会の召集 (サ) 任命 (シ) 華族
 (ソ) 栄典の授与 (セ) 認証 (ツ) 主権者
 (タ) 閣議 (チ) 指名

問(B) 下線部①に関連して、現在の国家公務員制度について最も適当でないものを次の(ア)～(イ)から一つ選び、その記号をマークしなさい。

- (ア) 国家公務員法は、「職員の給与、勤務時間その他勤務条件に関する基礎事項は、社会一般の情勢に適應するように、人事院においてこれを変更することができる。」と定めている。
- (イ) 国家公務員倫理法は、「職員は、法律により与えられた権限の行使に当たっては、当該権限の行使の対象となる者からの贈与等を受けること等の国民の疑惑や不信を招くような行為をしてはならない。」と定めている。
- (ウ) 国家公務員制度改革基本法は、「政府は、縦割り行政の弊害を排除するため、内閣の人事管理機能を強化し、並びに多様な人材の登用及び弾力的な人事管理を行えるよう」一定の「措置を講ずるものとする。」と定めている。
- (エ) 国家公務員法は、「この法律の規定は、この法律の改正法律により、別段の定がなされない限り、特別職に属する職には、これを適用しない。」と定めている。

問(C) 下線部②に関連して、日本国憲法上の規定について最も適当なものを次の(ア)～(イ)から一つ選び、その記号をマークしなさい。

- (ア) 「最高裁判所は、国政に関する調査を行ひ、これに関して、証人の出頭及び証言並びに記録の提出を要求することができる。」と定めている。
- (イ) 「内閣総理大臣は、一切の法律、命令、規則又は処分が憲法に適合するかしないかを決定する権限を有する。」と定めている。
- (ウ) 「内閣は、衆議院で不信任の決議案を可決し、又は信任の決議案を否決したときは、十日以内に衆議院が解散されない限り、総辞職をしなければならない。」と定めている。
- (エ) 「裁判官は、裁判により、心身の故障のために職務を執ることができないと決定された場合を除いては、公の弾劾によらなければ罷免されない。裁判官の懲戒処分は、内閣がこれを行ふ。」と定めている。

- 11 -

問(F) 下線部⑤に関連して、日本国憲法上の規定について最も適当でないものを次の(ア)～(イ)から一つ選び、その記号をマークしなさい。

- (ア) 「政令には、特にその法律の委任がある場合を除いては、罰則を設けることができない。」と定めている。
- (イ) 「最高裁判所は、訴訟に関する手続、弁護士、裁判所の内部規律及び司法事務処理に関する事項について、規則を定める権限を有する。」と定めている。
- (ウ) 「地方公共団体は、その財産を管理し、事務を処理し、及び行政を執行する権能を有し、法律の範囲を超えて条例を制定することができる。」と定めている。
- (エ) 「日本国が締結した条約及び確立された国際法規は、これを誠実に遵守することを必要とする。」と定めている。

- 13 -

問(D) 下線部③に関連して、現在の参議院議員通常選挙について最も適当なものを次の(ア)～(イ)から一つ選び、その記号をマークしなさい。

- (ア) 参議院議員は、小選挙区選出議員および比例代表選出議員からのみで構成される。
- (イ) 比例代表における議席配分は、以前はドント方式が採用されていたが、より「1票の格差」を是正するため、アダムズ方式が採用された。
- (ウ) 選挙区の選挙において公職の候補者となった者は、同時に、比例代表の選挙における公職の候補者となることができない。
- (エ) 日本国民で年齢満15年以上のすべての者は、参議院議員の選挙権を有する。

問(E) 下線部④に関連して、日本国憲法上の規定について最も適当なものを次の(ア)～(イ)から一つ選び、その記号をマークしなさい。

- (ア) 「参議院で衆議院と異なつた議決をした場合、法律に定めるところにより、必ず両院協議会を開かなければならない。」と定めている。
- (イ) 「衆議院で可決し、参議院でこれと異なつた議決をした法律案は、衆議院で出席議員の3分の2以上の多数で再び可決したときは、法律となる。」と定めている。
- (ウ) 「内閣総理大臣について、衆議院と参議院とが異なつた指名の議決をした場合、ただちに衆議院の議決が国会の議決となる。」と定めている。

- 12 -

〔IV〕 次の文章を読んで、問(A)～問(G)に答えなさい。

1990年代以降、コンピューターとインターネットの進展により、大量の情報も瞬時に低コストで簡単に処理・伝送できるようになった。これによって生じた経済や社会における大きな変化は、IT革命と呼ばれる。IT革命は経済、社会に次のような利便性や効率化をもたらした。

経済においては、第一に、個人の発信した情報や購入履歴、位置情報などがビッグデータとなり、これを収集・分析して、企業経営に活用できるようになった。

第二に、国境を越えた商品や資金の移動が拡大し、さまざまな分野でグローバル化を急速に進展させた。その立役者として、GAFGAをはじめとするプラットフォーム(プラットフォーム企業)が世界経済で存在感を増している。プラットフォームは、情報技術を駆使して、インターネット上での情報のやりとりを行う場(プラットフォーム)を提供することで巨大な利益をあげている。

第三に、インターネットを利用した電子商取引であるeコマースやインターネットバンキングが盛んになり、電子マネーなども用いられるようになった。

第四に、コンピューターの情報処理能力の向上とディープラーニング(深層学習)の導入により、AIが急速に進歩し、情報処理に活用されている。たとえば、ビッグデータやAIを利用して、新しい金融サービスであるフィンテックなどが発展してきている。このフィンテックは、クラウドファンディング、暗号資産(仮想通貨)などを含む。クラウドファンディングとは、インターネットなどを通じて不特定多数の人びと(群衆)に対して新規事業への資金提供を呼びかけ、その趣旨に賛同した人から資金を調達する方法である。暗号資産(仮想通貨)とは、特定のネットワークのなかで行われた取引記録の情報を暗号技術によってつなげる(1)を用いて、代金の支払いなどに際してインターネット上でやりとりのできるものである。暗号資産(仮想通貨)の広がりには、金融機関の役割に影響を与えつつある。

社会においては、第一に、インターネットの進展による在宅勤務やテレワークの広がり、単純で定型的な作業のAIへの代替などで人びとの働き方が変わると

- 14 -

ともに、SNSなどのソーシャルメディアによって人びとの関わり方も変わりつつある。

第二に、社会保障・税番号(マイナンバー)制度のもとで交付されるマイナンバーカードは、公的な身分証明書としての利用、健康保険証としての利用、コンビニエンスストアでの住民票の取得などインターネットを通じた各種行政手続きを可能とし、人びとの生活をより便利にするだけでなく行政事務の効率化・簡素化も期待されている。

第三に、機械、家電、携帯電話、輸送機器などすべてのモノがインターネットにつながるIoTの進展によって、身の回りのあらゆるものにコンピューターが組みこまれつつある。このような社会を、「神があまねく存在する」というラテン語を語源とする(2)社会と呼ぶ。

第四に、ビッグデータ、AI、IoT、ロボットを駆使し、賢くエネルギーを使うことで、交通、教育、医療、安全、商業施設などの都市インフラを効率的に運営できる、環境配慮型のまちづくりの取り組みも、東京都港区や千葉県柏市などで企業が中心となっておこなわれている。

その反面、IT革命は次のような課題ももたらしている。

第一に、プラットフォームによる情報の独占や富の集中による弊害が問題視されるようになってきている。プラットフォームをはじめインターネットを通じて国境を越えて事業を展開するIT企業に対して、従来の課税ルールでは物理的な拠点がない場合には原則として課税できなかった。2021年には、こうした企業の利益、売上、付加価値に対して、国際協調で実施する(3)課税の導入について、OECD加盟国を含む136カ国・地域が合意した。

第二に、(3)化によって情報の複製が簡単におこなわれるようになり、映像や楽曲、ソフトウェアなどの著作物が違法に配信あるいはダウンロードされる事態も起きている。このため、日本でも知的財産基本法によって知的財産権の保護がはかられている。

第三に、人びとの仕事のあり方に対する懸念である。AIによって代替される人びとの失業問題や低所得化が近未来の深刻な課題として認識され、国際的な議論が重ねられている。さらに、プラットフォームを活用したフードデリバリー

- 15 -

サービスにみられるように、インターネットを通じて単発の仕事を受け負う人びとが増え、その仕事のあり方の不安定さなどが社会問題となっている。

第四に、インターネットの普及によって、一般の人びとがSNSなどのソーシャルメディアを通じて広く発言することが可能となり、情報伝達は双方向的になった。この結果、人びとが時に客観的事実よりも感情をゆさぶる情報を重視する(4)という風潮も生まれ、うその情報であるフェイクニュースが数多く拡散され社会に混乱を与えるような事態となった。このような事態を防止するためにも、情報処理能力の有無によって生じる生活水準の格差である(3)デバイドの解消や、情報をうのみにせず、建設的、批判的に読み取り活用する能力であるメディアリテラシーの育成がいつそう求められる。

このようにIT革命には光と影の両面があり、今後ますます適切な対応が求められる。

問(A) 文中の(1)～(4)に入れるのに最も適当な語句を下記の語群から選び、その記号をマークしなさい。

〔語群〕

- | | |
|-----------------|----------------------|
| (ア) デファクトスタンダード | (イ) ブロックチェーン |
| (ウ) パンデミック | (ロ) ポストトゥールズ |
| (エ) ソキエタス | (カ) スターリングブロック |
| (キ) サプライチェーン | (ク) デジタル |
| (ケ) ユビキタス | (コ) ICT |
| (ク) ポストハーベスト | (シ) デジタルトランスフォーメーション |

- 16 -

問(B) 下線部①に関して、各プラットフォームとその創業メンバーの組合せとして最も適当でないものを次の(ア)～(エ)から一つ選び、その記号をマークしなさい。

- (ア) Google — ビル・ゲイツ
- (イ) Apple — スティーブ・ウォズニアク
- (ウ) Facebook(現 Meta) — マーク・ザッカーバーグ
- (エ) Amazon — ジェフ・ベゾス

問(C) 下線部②の英語表記として、最も適当なものを次の(ア)～(エ)から一つ選び、その記号をマークしなさい。

- (ア) crowdfunding
- (イ) crowd founding
- (ウ) cloud funding
- (エ) cloud founding

問(D) 下線部③の桁数として、最も適当なものを次の(ア)～(エ)から一つ選び、その記号をマークしなさい。

- (ア) 8
- (イ) 12
- (ウ) 16
- (エ) 20

問(E) 下線部④を表す語句として、最も適当なものを次の(ア)～(エ)から一つ選び、その記号をマークしなさい。

- (ア) ダイバーシティ
- (イ) コンパクトシティ
- (ウ) シンクロシティ
- (エ) スマートシティ

問(F) 下線部⑤に関して書かれた次の文章のうち、最も適当なものを次の(ア)～(エ)から一つ選び、その記号をマークしなさい。

- (ア) 意匠権とは、物の外観としてのデザインに関する権利をいう。
- (イ) 産業財産権には、商標権、意匠権、著作権、特許権が含まれる。
- (ウ) 商標権とは、新規性・進歩性のある発明に関する権利をいう。
- (エ) 著作権とは、物の形や構造、組合せを工夫した考案に関する権利をいう。

問(G) 下線部⑥を表す語句として、最も適当なものを次の(ア)～(エ)から一つ選び、その記号をマークしなさい。

- (ア) ソーシャルワーカー
- (イ) エssenシャルワーカー
- (ウ) ギグワーカー
- (エ) ノマドワーカー

(以上)

- 17 -

- 18 -

2025年度入学試験問題

政治・経済

注意事項

- I 試験開始の指示があるまで問題用紙を開いてはいけません。
- II 解答用紙はすべて黒鉛筆(HB)〈シャープペンシルは、HB 0.5 mm 以上の芯であれば使用可〉で記入することになっています。
(万年筆・ボールペン・サインペンなどを使用してはいけません。)
- III 解答用紙右端の出席票に印刷されている受験番号を確認してください。間違いがなければ氏名欄に署名し、切取線から切り離してください。
- IV 試験時間は60分です。
- V 問題は21ページで大問4問です。

マーク記入上の注意

1. 解答欄にマークするときは、HBの黒鉛筆で次の正しい例のように、濃く正確にぬりつぶしてください。
2. マークのしかた
 - (ア) 正しい例
 - a 解答が1つの場合 例えばイと解答するときは

(1)	<input type="radio"/>	<input checked="" type="radio"/>	<input type="radio"/>	<input type="radio"/>	<input type="radio"/>
-----	-----------------------	----------------------------------	-----------------------	-----------------------	-----------------------

 のように、マークしてください。
 - b 解答が2つの場合 例えばイとウと解答するときは

(1)	<input checked="" type="radio"/>	<input checked="" type="radio"/>	<input type="radio"/>	<input type="radio"/>	<input type="radio"/>
(1)	<input type="radio"/>	<input checked="" type="radio"/>	<input checked="" type="radio"/>	<input type="radio"/>	<input type="radio"/>

 または (1)

<input checked="" type="radio"/>	<input checked="" type="radio"/>	<input type="radio"/>	<input type="radio"/>	<input type="radio"/>	<input type="radio"/>
----------------------------------	----------------------------------	-----------------------	-----------------------	-----------------------	-----------------------

 のように各1つずつマークしてください。
 - (イ) 悪い例
 - (1)

<input type="radio"/>	<input type="radio"/>	<input type="radio"/>	<input type="radio"/>	<input type="radio"/>	<input type="radio"/>
-----------------------	-----------------------	-----------------------	-----------------------	-----------------------	-----------------------

 ○印でかこむ。
 - (2)

<input type="radio"/>	<input type="radio"/>	<input type="radio"/>	<input type="radio"/>	<input type="radio"/>	<input type="radio"/>
-----------------------	-----------------------	-----------------------	-----------------------	-----------------------	-----------------------

 全部をぬりつぶしていない。
 - (3)

<input type="radio"/>	<input type="radio"/>	<input type="radio"/>	<input type="radio"/>	<input type="radio"/>	<input type="radio"/>
-----------------------	-----------------------	-----------------------	-----------------------	-----------------------	-----------------------

 レ印をつける。
 - (4)

<input type="radio"/>	<input type="radio"/>	<input type="radio"/>	<input type="radio"/>	<input type="radio"/>	<input type="radio"/>
-----------------------	-----------------------	-----------------------	-----------------------	-----------------------	-----------------------

 |印をつける。
 - (5)

<input type="radio"/>	<input type="radio"/>	<input type="radio"/>	<input type="radio"/>	<input type="radio"/>	<input type="radio"/>
-----------------------	-----------------------	-----------------------	-----------------------	-----------------------	-----------------------

 1欄に2つ以上マークする。
 このような記入をしてはいけません。
3. 一度記入したマークを訂正する場合は、消しゴムで完全に消してから記入しなおしてください。

(1)	<input type="radio"/>	<input checked="" type="radio"/>	<input type="radio"/>	<input type="radio"/>	<input type="radio"/>
-----	-----------------------	----------------------------------	-----------------------	-----------------------	-----------------------

 のように×印をしても消したことはありません。
4. 解答用紙を折り曲げたり、破ったり、また汚したりしないでください。

〔I〕 次の会話を読んで、問(A)～問(C)に答えなさい。

教 員：今日は、日本国憲法における司法の役割について考えてみましょう。大日本帝国憲法における司法権と比較して、日本国憲法の下での司法権^①には、法の支配の実現にとって重要な役割が課されているといえそうです。なお、以下では日本国憲法のことは単に「憲法」と称することにしましょう。

学生A：教科書には、司法の果たすべき役割はまず何よりも、社会の中でさまざまに生じる紛争を法に基づいて解決することにあると記述されていました。

教 員：そうですね。そして、司法による紛争の解決は、紛争当事者から中立の立場に立って公平・公正に行われる必要があります。だからこそ憲法は、裁判官の任命の仕組みをはじめとして、司法の担い手である裁判所の組織や手続について、たくさんの規定を設けているわけです。加えて、国会の制定する法律も、審級制度など裁判の仕組みを具体的に構築しています。

学生B：裁判の基本原則を定めたものとして、例えばどんな条文があったかなあ。たしか授業では、憲法76条3項^②があげられていた記憶がうっすらと残っているけれど・・・。

学生A：あ、私はしっかり覚えています！司法権の独立を保障した規定です。

教 員：司法権の独立は、外部からの干渉や圧力を受けることなく、裁判が法に基づき公正・中立に行われることを保障するために重要です。そしてそれを確かなものとするために、憲法は、裁判官の身分保障^③について手厚い定めを置いています。

学生B：ここまで聞いて、法に基づく公正・中立な裁判の実現のために憲法が裁判制度の基盤を構築していることが分かりました。ところで、司法が果たすべき役割は何かと問われたら、社会における紛争解決の機能に尽きると考えてよいですか？

教 員：いえいえ、大日本帝国憲法の下であれば、そうした理解でもよかったです。

もしません。しかし現行憲法において、そのような回答で満足することはできないでしょう。

学生A：最初に言っていた、「法の支配」の考え方と関わりますか・・・？

教 員：その通りです。法の支配をめぐっては多様な理解があり得るので、一義的に定義することは不可能です。しかし例えば、専断的な国家権力の支配を排斥し、国家権力の活動はあらかじめ定められた法に従って行われなければならない、といった考え方を指します。憲法に引き付けて言うならば、国家権力を憲法へと拘束し、憲法に則った国政運営を確保しようとする考え方です。

学生B：そのような中で、憲法は司法に重要な役割を授けているということですか？

教 員：そうですね。他の国家機関の活動が憲法や法律に従って行われたかをチェックし、法的に統制する役割が付与されているといえます。

学生A：その典型は、憲法81条によって裁判所に違憲審査権^④が付与されたところに表れていますね！

教 員：今言及してくれた憲法81条は、「最高裁判所は、一切の法律、命令、規則又は処分が憲法に適合するかしないかを決定する権限を有する終審裁判所である」と規定しています。このような権限は、大日本帝国憲法のなかには見られなかったものです。

学生B：違憲審査の対象に「法律」が含まれているということは、国民の代表機関である国会の決定でさえ、裁判所が違憲と判断して覆してしまうことがありうることになるから、その権限の行使は影響力が大きいですね・・・。

教 員：この点を捉えて、最高裁判所は「憲法の番人」と称されることもあります。そのような地位と権能に鑑みて、憲法は国民審査制度^⑤を設け、最高裁判所の裁判官を民主的なコントロールの下に置こうとしているわけです。

学生A：最高裁判所の憲法裁判の具体例は、資料集に掲げられていました。憲法の保障する基本的人権に関する裁判が多数を占めていたという印象ですが、民主政治にすぐに関わるものとして、例えば選挙をめぐる憲法判例^⑥

が紹介されていました。

教員：けれど、裁判所の権限にも限界があります。例えば、裁判所はどのような紛争に対しても司法権や違憲審査権を行使できるわけでは^⑩ありません。また、裁判所は、適法な訴えがあつて初めてそれらの権限を行使できるという、あくまで受動的な機関でもあります。

学生A：だから、政治資金規正法をめぐる国会議員の問題が^⑩昨年ニュースを賑わせているけれど、検察が不起訴とした事例が少ないから、刑事裁判によって裁かれない事態がたくさん生じるのですね……。

学生B：う～ん、でもそれはどうにも納得いかないなあ。

教員：その点について言えば、検察官による公訴権の行使が適切であるかを審査する仕組みとして、1948年に導入された^⑪検察審査会制度がありますね。

学生A：あ、それは先日ニュースで見ました。検察審査会は国民の民意を反映することで刑事手続をより適正に行うための機関で、2009年の裁判員制度導入と同時に強制起訴の仕組みが設けられた、ということが解説されていました。

教員：国民の司法参加をはじめとして、司法制度改革は進められていますが、未だ多くの課題が指摘されています。憲法の委ねた役割を司法が十分に果たすことができているか、不断にチェックしていくことが大切なのではないでしょうか。

問(B) 下線部②に関して、日本国憲法の定める裁判官の任命の仕組みについて述べた次の文中の(a)～(c)に入れるのに最も適当な語句を下記の語群から選び、その記号をマークしなさい。

最高裁判所は、長官とそれ以外の裁判官によって構成されるところ、長官は(a)の指名に基づいて(b)が任命し、それ以外の裁判官は(a)が任命する。これに対し、下級裁判所の裁判官は、(c)の指名した者の名簿によって(a)が任命する。

〔語群〕

- | | | |
|----------|-----------|------------|
| (ア) 天皇 | (イ) 国会 | (ウ) 衆議院 |
| (エ) 参議院 | (オ) 内閣 | (カ) 内閣総理大臣 |
| (キ) 法務大臣 | (ク) 最高裁判所 | (ケ) 高等裁判所 |
| (コ) 国民 | | |

問(A) 下線部①に関して、大日本帝国憲法および日本国憲法における司法権に関する説明として最も適当なものを次の(ア)～(エ)から一つ選び、その記号をマークしなさい。

- (ア) 日本国憲法においては、司法権は最高裁判所及び下級裁判所が行使するものとされているのに対し、大日本帝国憲法においては、司法権は臣民の名に於いて天皇が行使するものとされていた。
- (イ) 日本国憲法によれば、裁判の対審及び判決はすべて公開法廷で行われるのに対し、大日本帝国憲法によれば、裁判の対審及び判決は憲法に明文で定められている場合を除いて非公開とされていた。
- (ウ) 日本国憲法は、皇室裁判所や軍法会議といった特別裁判所を設置することができないと定めているのに対し、大日本帝国憲法は、特別裁判所の管轄は法律によって定めるものとしていた。
- (エ) 日本国憲法においては、法律に特別の定めがある場合には行政機関が終審として裁判を行うことができるのに対し、大日本帝国憲法においては、行政機関は終審として裁判を行うことができないものとされていた。

問(C) 下線部③に関して、次に掲げる文中の(d)および(e)に入れる語句の組合せとして最も適当なものを次の(ア)～(エ)から一つ選び、その記号をマークしなさい。

民事訴訟法 281 条 1 項によれば、「控訴は、(d)が第一審としてした終局判決又は簡易裁判所の終局判決に対してすることができる」。

民事訴訟法 311 条 1 項によれば、「上告は、高等裁判所が第二審又は第一審としてした終局判決に対しては(e)に、(d)が第二審としてした終局判決に対しては高等裁判所にすることができる」。

	(d)	(e)
(ア)	地方裁判所	最高裁判所
(イ)	家庭裁判所	最高裁判所
(ウ)	地方裁判所	終審裁判所
(エ)	家庭裁判所	終審裁判所

問(D) 下線部④に関して、次に掲げる文中の(f)に入れるのに最も適当な語句を次の(ア)～(エ)から一つ選び、その記号をマークしなさい。

日本国憲法 76 条 3 項は、「すべて裁判官は、その(f)に従ひ独立してその職権を行ひ、この憲法及び法律にのみ拘束される。」と規定している。

- (ア) 思想
- (イ) 良心
- (ウ) 信念
- (エ) 正義

問(E) 下線部⑤に関して、司法権の独立をめぐる事件の一つである大津事件について述べた次の文中の(g)～(i)に入れる語句の組合せとして最も適当なものを次の(ア)～(エ)から一つ選び、その記号をマークしなさい。

1891年、日本訪問中のロシア皇太子ニコライ(後の皇帝ニコライ2世)が、滋賀県大津町において、警護の津田三蔵巡査に斬り付けられる事件が起きた。当時の刑法によれば、日本の皇族に危害を加えた場合は死刑とされたが(旧刑法116条)、それ以外の者に対する一般の謀殺未遂は、死刑に次ぐ無期徒刑が最高刑であった(旧刑法292条・112条)。ロシアとの関係悪化を懸念した外交上の配慮から、松方正義内閣が旧刑法116条の罪を適用して津田を死刑にするよう圧力を加えたのに対し、当時の大審院長児島惟謙は、「法の尊厳と裁判の独立を守ることこそ国家の自主性を確立する道である」と説き、事件を担当する裁判官を説得した。その結果、大審院は、津田に対して(g)の判決を下すこととなった。

この事件は、内閣という他の国家機関による干渉から(h)を守った事例として評価されている一方、児島の大審院長としての説得行為によって(i)が脅かされた事例とも評される。

	(g)	(h)	(i)
(ア)	死刑	裁判所の独立	裁判官の職権の独立
(イ)	死刑	裁判官の職権の独立	裁判所の独立
(ウ)	無期徒刑	裁判所の独立	裁判官の職権の独立
(エ)	無期徒刑	裁判官の職権の独立	裁判所の独立

問(H) 下線部⑧に関して、最高裁判所の裁判官の国民審査制度に関する説明として最も適当でないものを次の(ア)～(エ)から一つ選び、その記号をマークしなさい。

- (ア) 憲法79条2項によれば、最高裁判所の裁判官の任命は、その任命後初めて行われる衆議院議員総選挙の際国民の審査に付し、その後10年を経過した後初めて行われる衆議院議員総選挙の際更に審査に付し、その後も同様とする。とされている。
- (イ) 最高裁判所裁判官国民審査法6条によれば、審査は投票により行い、投票は一人一票に限る。
- (ウ) 最高裁判所裁判官国民審査法15条によれば、審査人は、投票所において、罷免を可とする裁判官については投票用紙の当該裁判官に対する記載欄に自ら×の記号を記載し、罷免を可としない裁判官については投票用紙の当該裁判官に対する記載欄に自ら○の記号を記載し、これを投票箱に入れなければならない。
- (エ) 憲法79条3項によれば、投票者の多数が裁判官の罷免を可とするときは、その裁判官は罷免される。もっとも、国民審査によって罷免された最高裁判所裁判官はこれまで一人も存在しない。

問(F) 下線部⑥に関して、裁判官の身分保障に関する説明として最も適当でないものを次の(ア)～(エ)から一つ選び、その記号をマークしなさい。

- (ア) 憲法79条6項および80条2項によれば、最高裁判所および下級裁判所の裁判官は、「すべて定期に相当額の報酬を受ける。この報酬は、在任中、これを減額することができない」とされている。
- (イ) 憲法78条は、「裁判官は、裁判により、心身の故障のために職務を執ることができないと決定された場合を除いては、公の弾劾によらなければ罷免されない」と規定している。
- (ウ) 弾劾裁判所は、これまで罷免訴追事件を10件判断しており、そのうち8件について裁判官を罷免とする判決を下している。
- (エ) 弾劾裁判所がこれまでに下した罷免判決は、いずれも罷免された裁判官が刑事事件で有罪判決を受けたことを理由とするものであった。

問(G) 下線部⑦に関して、日本国憲法における違憲審査権に関する記述として最も適当なものを次の(ア)～(エ)から一つ選び、その記号をマークしなさい。

- (ア) 警察予備隊訴訟(最高裁昭和27年10月8日判決)は、「最高裁判所は、憲法八一条の規定に基づき、具体的事件を離れて抽象的に法律命令等の合憲性を判断する権限を有する」と判示した。
- (イ) 警察予備隊訴訟(最高裁昭和27年10月8日判決)は、「憲法八一条の定める違憲審査権は司法権ではなく、立法権及び行政権の性格を兼有する特殊の権限である」と判示した。
- (ウ) 警察予備隊訴訟(最高裁昭和27年10月8日判決)は、「憲法八一条は、最高裁判所が違憲審査権を有する終審裁判所であることを明らかにした規定であると同時に、下級裁判所が違憲審査権を有することを否定する趣旨をもっている」と判示した。
- (エ) (ア)～(ウ)はいずれも誤っている。

問(I) 下線部⑨に関して、選挙をめぐる憲法判例に関する記述として最も適当なものを次の(ア)～(エ)から一つ選び、その記号をマークしなさい。

- (ア) 衆議院議員定数不均衡訴訟(最高裁昭和51年4月14日判決)は、昭和47年12月10日に施行された衆議院議員総選挙の依拠した公職選挙法の規定について、選挙区間の議員1人当たりの選挙人数の格差が最大4.99倍となっていた定数配分規定は投票価値の平等を保障する憲法14条1項に違反すると判示し、当該選挙を無効とした。
- (イ) 定住外国人地方選挙権事件(最高裁平成7年2月28日判決)は、「国民主権の原理及びこれに基づく憲法15条1項の規定の趣旨」に鑑みれば、「憲法93条2項にいう『住民』とは、地方公共団体の区域内に住所を有する日本国民を意味するものと解するのが相当」であるため、外国人に対して「法律をもって、地方公共団体の長、その議会の議員等に対する選挙権を付与する措置を講ずることは、憲法上禁止されている」と判示した。
- (ウ) 在外邦人選挙権事件(最高裁平成17年9月14日判決)は、「国外に居住して国内の市町村の区域内に住所を有していない日本国民」が投票できる「選挙を当分の間両議院の比例代表選出議員の選挙に限定する」公職選挙法の規定について、「そのような制限をすることがやむを得ないと認められる事由」があるとはいえないため、「憲法15条1項及び3項、43条1項並びに44条ただし書に違反する」と判示した。
- (エ) (ア)～(ウ)はいずれも誤っている。

問(J) 下線部⑩に関する次の(x)および(y)について、それらの正誤の組合せとして最も適当なものを次の(ア)～(エ)から一つ選び、その記号をマークしなさい。

- (x) 砂川事件(最高裁昭和34年12月16日判決)においては、日米安全保障条約が憲法9条、98条2項および前文の趣旨に反するか否かが争点の一つとなったところ、最高裁判所は、日米安全保障条約は「主権国としてのわが国の存立の基礎に極めて重大な関係をもつ高度の政治性を有するものというべきであつて、その内容が違憲なりや否やの法的判断は、その条約を締結した内閣およびこれを承認した国会の高度の政治的ないし自由裁量の判断と表裏をなす点がすくなくない」ため、「一見極めて明白に違憲無効であると認められる場合であっても、裁判所の司法審査権は一切及ばない」と判示した。
- (y) 苫米地事件(最高裁昭和35年6月8日判決)においては、昭和27年8月28日に行われた衆議院の解散について、憲法69条ではなく憲法7条に依拠して行われたことの憲法適合性が争点の一つとなったところ、最高裁判所は、「衆議院の解散は、極めて政治性の高い国家統治の基本に関する行為」であるため、「その法律上の有効無効を審査することは司法裁判所の権限の外にありと解すべき」であると判示した。

	(x)	(y)
(ア)	正	正
(イ)	誤	正
(ウ)	正	誤
(エ)	誤	誤

問(K) 下線部⑪に関して、檢察審査会制度に関する説明として最も適当なものを次の(ア)～(イ)から一つ選び、その記号をマークしなさい。

- (ア) 檢察審査会法によれば、檢察官の公訴を提起しない処分に不服があるときは、衆議院議員の選挙権を有する者であれば誰でも、檢察審査会にその処分の当否の審査の申立てをすることができる。
- (イ) 檢察審査会法によれば、檢察審査会は、衆議院議員の選挙権を有する者のうち、弁護士、司法書士その他の法律の素養のある者の中からくじで選定した11人の檢察審査員を以てこれを組織する。
- (ウ) 最高裁判所の公表している統計資料(「檢察審査会の受理件数、議決件数等(平成31年～令和5年)」)によれば、令和5年12月31日までの審査事件(第二段階の審査を含まない)の議決のうち、「起訴相当」とされた割合は約1.4%である。
- (エ) 最高裁判所の公表している統計資料(「檢察審査会の受理件数、議決件数等(平成31年～令和5年)」)によれば、檢察審査会の第二段階の審査の結果「起訴議決」となり、裁判所の指定した弁護士による強制起訴へと至った事件は、令和5年12月31日まで一件も存在しない。

〔II〕 次の文章を読んで、問(A)～問(E)に答えなさい。

消費者は、企業から商品・サービスを購入することによって利益を享受して生活を営んでいる。この時、消費者と企業の間には、(1)が存在することから、消費者は企業を信用して商品・サービスを購入せざるを得ない。しかしながら、さまざまな理由から、消費者の利益や権利が損なわれることがある。

アメリカの(2)大統領は、1962年に消費者の四つの権利をうたった。さらに、1975年のフォード大統領や、その後の(3)による権利の追加を踏まえて、八つの消費者の権利が日本の(4)でも明文化されている。

これら消費者権利を実現するために、消費者側からは、消費者団体や生活協同組合(生協)をつくって、消費者運動を進めていくことができる。企業側からは、法律で禁止されている悪徳商法を行わないのは当然のこととして、企業の社会的責任を自覚し、安全かつ安定した品質の商品・サービスを消費者に提供する必要がある。また政府や地方の行政サイドからは、消費者保護行政を推進していく必要がある。

これまでの日本の消費者保護行政の具体例としては、消費者の権利尊重と自立支援などを内容とする(4)が、2004年に成立した。欠陥商品に対しては、製造物責任法(PL法)が定められた。また悪質な売買契約を取り消したり、不当な契約内容を無効と主張したりできる(5)が、2001年に施行された。消費者問題を包括的に扱う行政機関としては、2009年に(6)に消費者庁が設置された。

問(A) 文中の(1)～(6)に入れるのに最も適当な語句を下記の語群から選び、その記号をマークしなさい。

〔語群〕

- | | | |
|----------------|--------------|------------|
| (ア) 消費者保護基本法 | (イ) ニクソン | (ウ) 情報漏洩 |
| (ロ) 国際消費者機構 | (ニ) 経済産業省 | (エ) 価格格差 |
| (ハ) 総務省 | (ヒ) カーター | (オ) 内閣府 |
| (ニ) 情報の非対称性 | (ホ) 電子契約法 | |
| (ヘ) クーリング・オフ制度 | (ニ) ケネディ | |
| (ト) 特定商取引法 | (フ) ジョンソン | (ク) 消費者契約法 |
| (チ) 買金格差 | (ブ) リコール | (ケ) 消費者基本法 |
| (リ) 民法 | (ビ) 消費生活センター | |

問(B) 下線部⑫に関して、消費者と企業間の売買契約に関して、最も適当なものを次の(ア)～(イ)から一つ選び、その記号をマークしなさい。

- (ア) 未成年者が、親の同意なしに売買契約した場合は、未成年者取消権によって契約を取り消すことができる。
- (イ) 消費者契約法では、あらゆる売買契約について事業者側に不当な行為があったとしても契約の取り消しはできないことを定めている。
- (ウ) 訪問販売や電話勧誘販売などで商品・サービスを購入して後悔した場合、いつでも契約を解除できる。
- (エ) 契約は、口頭では成立せず、文書や押印の形で成立する。

問(C) 下線部⑬の権利として含まれるものを、次の(ア)～(イ)から一つ選び、その記号をマークしなさい。

- (ア) 意見を聞いてもらう権利 (イ) 救済を求める権利
- (ウ) 交渉する権利 (エ) 健康な環境を求める権利

問(D) 下線部③に該当する記述として、最も適当でないものを次の(ア)～(エ)から一つ選び、その記号をマークしなさい。

- (ア) トレーサビリティが明らかでない鶏肉を販売すること
- (イ) 重要事項を伝えずに勧誘を行うマルチ商法
- (ウ) 商品実物よりも良くみせようとする誇大広告
- (エ) 商品情報や消費期限などの日付を偽装する表示

問(E) 下線部④に関する記述として、最も適当なものを次の(ア)～(エ)から一つ選び、その記号をマークしなさい。

- (ア) 訪問販売では、対面で丁寧に商品説明を行うので、企業に過失があった場合のみ企業の賠償責任を問うことができる。
- (イ) 企業に故意もしくは過失があった場合にだけ、消費者は企業に損害賠償を請求できる。
- (ウ) 企業の無過失責任を定めており、被害と企業活動の間に因果関係が認められる場合には、企業は賠償責任を負う。
- (エ) 2000年に制定され、翌年施行された。

日本は国連加盟国中最多となる12回目の非常任理事国の役割を、2023年1月から務めることになった。国連の活動を支える予算については、各加盟国が支払う分担金と各加盟国が政策的な必要に応じて提出する任意拠出金から構成されている。なお、分担金の算出根拠となる分担率は、加盟国の財政負担能力に応じて3年ごとに改定される。『令和6年版 外交青書』によれば、2022年から2024年の分担率を高い方から並べると、日本の順位は第(4)位である。日本政府は、主要拠出国の立場から国連が予算をより効果的に活用するように働きかけている。加えて、国連やその専門機関で働く日本人職員の数の増加および昇進を促進し、^④より重要なポストの獲得についても支援している。

問(A) 文中の(1)～(4)に入れるのに最も適当な語句または数字を下記の語群から選び、その記号をマークしなさい。

〔語群〕

- | | | |
|---------------|---------|-------------|
| (ア) 連合国 | (イ) 1 | (ウ) 道徳倫理 |
| (エ) ニュルンベルク市 | (イ) 枢軸国 | (ウ) 国家主権 |
| (キ) サンフランシスコ市 | (ク) 3 | (ケ) ニューヨーク市 |
| (ク) 友好国 | (サ) 2 | (セ) 基本的人権 |

問(B) 下線部①に関連して、国連加盟国に関する記述として最も適当なものを次の(ア)～(エ)から一つ選び、その記号をマークしなさい。

- (ア) 2024年1月時点で、コソボは国連に加盟していない。
- (イ) 2024年1月時点で、イスラエルは国連に加盟していない。
- (ウ) 2020年に、イギリスは欧州連合と同時に国連からも離脱した。
- (エ) 2011年に、南スーダンが国連から離脱したため加盟国が193となった。

〔Ⅲ〕 次の文章を読んで、問(A)～問(E)に答えなさい。

国際連合(以下、国連)は2025年に創設80周年、日本は2026年に国連加盟70周年を迎える。国連は51カ国を原加盟国として発足した。日本は国連の80番目の加盟国となって以降、国連の場を通じて様々な外交活動を続けている。

① 国連憲章は国連の基本文書で、加盟国の権利や義務を規定するとともに、国連の主要機関や手続きを定めている。国連憲章は前文と全19章、111条からなる。第1章では国連の目的と原則を規定し、第3章7条では国連の6つの主要機関の名前を載せている。^②

国連憲章の前文には、国連の創設に参加した国々が持つ理想と共通の目的が以下のように表明されている。「われら(1)の人民は、われらの一生のうちに二度まで言語に絶する悲哀を人類に与えた戦争の惨害から将来の世代を救い、(2)と人間の尊厳及び価値と男女及び大小各国の同権とに関する信念をあらためて確認し、正義と条約その他の国際法の源泉から生ずる義務の尊重とを維持することができる条件を確立し、一層大きな自由の中で社会的進歩と生活水準の向上とを促進すること

並びに、このために、寛容を実行し、且つ、善良な隣人として互に平和に生活し、国際の平和及び安全を維持するためにわれらの力を合わせ、共同の利益の場合を除く外は武力を用いないことを原則の受諾と方法の設定によつて確保し、すべての人民の経済的及び社会的発達を促進するために国際機構を用いることを決意して、これらの目的を達成するために、われらの努力を結集することに決定した。

よつて、われらの各自の政府は、(3)に会合し、全権委任状を示してそれが良好妥当であると認められた代表者を通じて、この国際連合憲章に同意したので、ここに国際連合という国際機構を設ける。』(佐伯仁志・大村敦志・荒木尚志編集代表『ポケット六法(令和6年版)』(有斐閣、2024)(一部改変))

国連の主要6機関の中で、国連憲章のもとに国際の平和と安全に主要な責任を持つのが安全保障理事会である。安全保障理事会は常任理事国5カ国^③と非常任理事国10カ国で構成されている。

問(C) 下線部②に関連して、国連憲章第3章7条に記載されている主要機関として最も適当でないものを次の(ア)～(エ)から一つ選び、その記号をマークしなさい。

- (ア) 信託統治理事会
- (イ) 経済社会理事会
- (ウ) 総会
- (エ) 国際刑事裁判所

問(D) 下線部③に関連して、安全保障理事会の非常任理事国に関する説明として最も適当なものを次の(ア)～(エ)から一つ選び、その記号をマークしなさい。

- (ア) イギリスは非常任理事国を務めたことがある。
- (イ) 非常任理事国は国連事務総長の推薦に基づき決定する。
- (ウ) 非常任理事国には任期があり、その期間は2年である。
- (エ) 非常任理事国すべてが同意しなければ、いかなる事項も決定できない。

問(E) 下線部④に関連して、国連と密接ななかつわりのある国際機関の役職と当該役職に選出されたことがある日本人の組合せとして最も適当でないものを次の(ア)～(エ)から一つ選び、その記号をマークしなさい。

(ア)	国連人権高等弁務官事務所(OHCHR)	高等弁務官	新渡戸稲造
(イ)	国連難民高等弁務官事務所(UNHCR)	高等弁務官	緒方貞子
(ウ)	国連教育科学文化機関(UNESCO)	事務局長	松浦晃一郎
(エ)	万国郵便連合(UPU)	国際事務局長	日時政彦

〔Ⅳ〕 次の文章を読んで、問(A)～問(D)に答えなさい。

国内経済全体の活動水準を測る最も代表的な指標がGDP(国内総生産)である。これは国内の各企業の(1)を合計することによって求められる。(1)は企業が新たにつくり出した価値を表す。パンの生産を例に(1)について考える。例えば、農家が100億円分的小麦を生産したとする。製粉会社がこれを原材料として買い取って、150億円分的小麦粉を生産し、そのすべてを製パン会社に販売したとする。製パン会社は買い取った小麦粉を原材料として、200億円分のパンを生産し、消費者に販売したとする。ただし、農家の小麦の生産に必要な中間生産物はなく、製粉会社と製パン会社の生産に必要な中間生産物は、それぞれ小麦と小麦粉の他にはないとする。このとき、農家の(1)は(2)億円であり、製粉会社の(1)は(3)億円である。製パン会社の(1)は(4)億円である。これらすべての生産活動によってGDPに含められる金額は(5)億円である。

GDPの値が大きくなることを経済成長という。経済成長の要因にはさまざまなものがあるが、オーストリア出身の経済学者(6)は主著〔(7)〕において(8)を経済成長(資本主義経済発展)の原動力として重視した。(8)とは新しい技術や新しい商品、新しい生産方法、新しい組織などを開発し、各企業が取り入れていくことをいう。例えば、製パン会社が新種のパンを開発して売り出したり、生産効率を高めるために新しい生産方法を開発して導入したりすることは(8)の例である。このような(8)には失敗が付きものだが、成功すれば製パン会社の(1)は大きくなり、一国の経済成長に貢献する。

他方で、製パン会社の実現した(8)によって従来の商品や従来の生産方法に頼るライバル会社は競争に敗れて市場から撤退してしまうかもしれない。(6)は、経済発展のプロセスにおいて(8)が従来の技術や従来の商品、従来の生産方法、従来の組織などを駆逐していくという経済の新陳代謝のことを創造的破壊と呼んだ。

18世紀後半にイギリスで起こった産業革命を契機に確立した資本主義経済で、繊維、鉄鋼、化学、自動車、電気などの新しい産業が次々と起こり、さまざま

な産業で創造的破壊が繰り返された。例えば、産業革命によってイギリスでは紡績機や織機など機械生産になると、それまで手工業で働いていた職人たちが職を失った。彼らは「機械が仕事を奪う」と考え、19世紀初めに(9)運動と呼ばれる機械の破壊運動を行った。産業革命以降、(8)とそれに伴う創造的破壊が持続的に繰り返されて今日まで経済は発展してきた。

問(A) 文中の(1)～(9)に入れるのに最も適当な語句を下記の語群から選び、その記号をマークしなさい。ただし、同じものを2回以上用いてもよい。

〔語群〕

- | | |
|----------------|---------------------|
| (ア) 50 | (イ) 100 |
| (ウ) 150 | (ロ) 200 |
| (エ) 250 | (ハ) 300 |
| (キ) 350 | (ニ) 400 |
| (ク) 450 | (ホ) アダム・スミス |
| (ケ) ケインズ | (ヘ) シュンペーター |
| (コ) リストラクチャリング | (セ)アウトソーシング |
| (サ) イノベーション | (タ) レッセ・フェール |
| (シ) ラグダイト | (チ) チャーティスト |
| (ソ) 売上高 | (リ) 付加価値 |
| (タ) 利潤 | (ニ) 雇用・利子および貨幣の一般理論 |
| (ス) 経済発展の理論 | (ホ) 国富論 |

問(B) 下線部①に関する記述として、最も適当でないものを次の(ア)～(エ)から一つ選び、その記号をマークしなさい。

- (ア) フローとストックの二つの概念のうちGDPはフローに該当する。
 (イ) 物価変動の影響を取り除いたGDPを実質GDPという。
 (ウ) GDPは国内での外国人による生産を含まない。
 (エ) 経済活動による自然環境の破壊はGDPに反映されない。

問(C) 下線部②に関連して、現実の経済では単調に経済成長し続けるわけではなく、経済活動が活発になったり、低迷したりするのを繰り返す。すなわち、景気循環(景気変動)を伴いながら経済成長を遂げる。約50年を周期として技術革新によって生じる循環を何というか、最も適当なものを次の(ア)～(エ)から一つ選び、その記号をマークしなさい。

- (ア) キチンの波
 (イ) クズネッツの波
 (ウ) コンドラチェフの波
 (エ) ジュグラールの波

問(D) 下線部③に関連して、経済成長とともに産業構造は大きく変化する。産業構造の変化に関する記述として、最も適当なものを次の(ア)～(エ)から一つ選び、その記号をマークしなさい。

- (ア) 経済が発展するにつれて、労働人口や経済活動の中心が第一次産業から第二次産業へ、さらに第三次産業へ移行する傾向がある。
 (イ) 日本の第一次産業の就業人口割合は、1960年から1970年ごろまで上昇傾向にあったが、その後は下落傾向が見られる。
 (ウ) 日本の第二次産業の就業人口割合は、1960年以降、下落傾向にある。
 (エ) 知識や情報の生産よりもモノの生産の役割が大きくなることを経済のソフト化という。

(以上)

2025年度入学試験問題

政治・経済

注意事項

- I 試験開始の指示があるまで問題用紙を開いてはいけません。
- II 解答用紙はすべて黒鉛筆(HB)(シャープペンシルは、HB 0.5 mm以上の芯であれば使用可)で記入することになっています。(万年筆・ボールペン・サインペンなどを使用してはいけません。)
- III 解答用紙右端の出席票に印刷されている受験番号を確認してください。間違いがなければ氏名欄に署名し、切取線から切り離してください。
- IV 試験時間は60分です。
- V 問題は16ページで大問4問です。


マーク記入上の注意

1. 解答欄にマークするときは、HBの黒鉛筆で次の正しい例のように、濃く正確にぬりつぶしてください。



2. マークのしかた

(ア) 正しい例


a 解答が1つの場合、例えばイと解答するときは


(1)  のように、マークしてください。


b 解答が2つの場合、例えばイとウと解答するときは

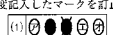
(1)  または (1)  のように各1つずつマークしてください。

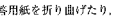
(イ) 悪い例

(1)  ○印でかこむ。

(2)  全部をぬりつぶしていない。


(3)  レ印をつける。

(4)  |印をつける。

(5)  1欄に2つ以上マークする。

このような記入をしてはいけません。

3. 一度記入したマークを訂正する場合は、消しゴムで完全に消してから記入しなおしてください。

(1)  のように×印をしても消したことはありません。

4. 解答用紙を折り曲げたり、破ったり、また汚したりしないでください。

[I] 次の文章を読んで、問(A)~問(G)に答えなさい。

2024年は、フランス、イギリス、日本の総選挙やアメリカ大統領選挙以外にも、世界中で重要な選挙が目白押し「選挙イヤー」であった。以下、順に見ていく。

1月7日、インドと東南アジアを結ぶ地政学上の要衝にあり、人口約1億7000万人を誇る(1)の総選挙が実施された。初代大統領の娘シェイク・ハシナ首相が強権的な姿勢をとってきたことに対し、^①主要野党は反発して候補者を立てず、有権者に選挙のボイコットを呼びかけた。この結果、ハシナ政権は継続することとなったが、反政府デモの激化を受けてハシナは首相を辞任し、国外へ脱出した。

1月13日、中華民国(台湾)の総統選挙と立法委員選挙が実施された。総統選挙では、(a)の賴清徳副総統が勝利した。しかし、同時に実施された立法委員選挙では、(a)は議席の過半数をとることができず、立法院長の座を(b)に奪われた。台湾を「中華人民共和国の不可分の一部」と主張する中国政府の報道官は、「選挙結果は祖国統一という歴史の流れを止めることはできない」と記者会見で述べた。

1月28日、(2)の大統領選挙が行われた。(2)の大統領は外交・安全保障に強い権限を持ち、軍の最高司令官も務める。1回目の投票では過半数を得た候補がおらず、上位2名の決選投票となり、アレクサンデル・ストupp元首相がベッカ・ハービスト元外相を破って当選した。(2)の隣国ロシアによるウクライナ侵攻を受け、(2)は長年の中立政策を転換し、2023年に北大西洋条約機構(NATO)に加盟している。

2月7日、カスピ海の産油国(3)で大統領選挙が実施され、2003年に大統領だった父の死去を受け後任に選出されて以降、長期政権を維持するイルハム・アリーエフが5選を決めた。この選挙は本来、2025年に実施予定であったが、アルメニア系住民がソ連末期から占領していたナゴルノカラバフを奪還したことを受けて、前倒しで行われた。

2月8日、(4)で総選挙が行われた。^②核保有国であり、インドと数度の戦争を経験した(4)では、軍部が強い影響力を持っている。クリケットの元スター選手で、軍を批判し軍幹部の人事に介入したイムラン・カーン元首相は、選挙直前に複数の罪で有罪となり出馬できなかったが、カーンを支持する無所属候補が90議席以上を獲得し、最大勢力となった。しかし、軍と良好な関係を保つシャバズ・シャリフ前首相が、再び首相に選出された。

2月14日、(5)で大統領選挙が行われた。当選したブラボウォ・スビアント国防相は、スハルト独裁政権期の国軍幹部で、反体制派を弾圧する側にいた過去を持つ。ブラボウォは、ジョコ・ウィドド大統領の長男を副大統領候補とし、ジョコの後継者というイメージをアピールした。

3月15日から17日にかけてロシアで大統領選挙が行われ、ウラジーミル・プーチンが2000年の初当選から数えて5度目の当選を果たした。憲法では大統領の任期は通算2期までだが、2020年の国民投票の結果、現職大統領やこれまでの大統領経験者は対象外とする憲法改正がなされていた。一方、ロシアの軍事侵攻を受けるウクライナでは戒厳令が敷かれており、2024年3月に予定されていた大統領選挙は延期された。ウオロディミル・ゼレンスキーの大統領としての任期は5月20日に満了したため、政治的正統性が問われる事態となった。

4月10日、大韓民国(韓国)で、総選挙が実施された。少数与党であった国民の力は、さらに議席を減らした。共に民主党は過半数を上回る議席を獲得し、同じ革新系で比例代表に特化した新党祖国革新党が躍進した。政権3年目を迎えた(c)大統領にとって、厳しい「中間評価」となった。

4月19日、有権者が10億人近くに上り、世界最大の選挙といわれるインドの総選挙が始まった。有権者の多さや国土の広さなどから、投票は州や地域別に複数回設定され、開票までに1カ月程度かかる。電子投票機が導入されており、政党ごとにマークが決まっているため、字の読めない人でも投票できる。

5月29日、アパルトヘイトが撤廃され、全ての人種が参加できる民主的な選挙が行われてから30年という節目の年に、(6)で総選挙が実施された。(6)は、ウクライナを侵略したロシアを非難せず、イスラエルがジェノサイドを行っていると同国際司法裁判所に提訴するなど、欧米との対立を強めている。

問(A) 文中の(1)～(6)に入れるのに最も適当な語句を下記の語群から選び、その記号をマークしなさい。

〔語群〕

- | | | |
|--------------|-----------|------------|
| (ア) アフガニスタン | (イ) ミャンマー | (ウ) スイス |
| (エ) バングラデシュ | (オ) フィリピン | (カ) トルコ |
| (キ) アゼルバイジャン | (ク) エジプト | (ケ) タイ |
| (コ) スウェーデン | (コ) スリランカ | (シ) 南アフリカ |
| (ス) アルゼンチン | (セ) パキスタン | (ソ) フィンランド |
| (タ) インドネシア | (チ) カンボジア | |

問(B) 下線部①に関連して、小口融資を手がけるグラミン銀行の創始者で、ハシナ首相と対立したノーベル平和賞受賞者は誰か。最も適当な語句を次の(ア)～(エ)から一つ選び、その記号をマークしなさい。

- (ア) マララ・ユスフザイ
 (イ) アマルティア・セン
 (ウ) ナルゲス・モハンマディ
 (エ) ムハマド・ユヌス

問(C) 文中の(a)および(b)に入れる語句の組合せとして最も適当なものを次の(ア)～(カ)から一つ選び、その記号をマークしなさい。

	(a)	(b)
(ア)	中国共産党	中国国民党
(イ)	台湾民衆党	民主進歩党
(ウ)	民主進歩党	中国国民党
(エ)	中国国民党	中国共産党
(オ)	中国国民党	台湾民衆党
(カ)	民主進歩党	台湾民衆党

問(D) 下線部②に関連して、中国と台湾に関する記述として最も適当でないものを次の(ア)～(エ)から一つ選び、その記号をマークしなさい。

- (ア) 1951年9月、サンフランシスコ講和会議に中華民国(台湾)政府の代表が出席し、対日講和条約に署名した。
 (イ) 1971年10月、国連総会で、「中華人民共和国政府の代表権回復、中華民国政府追放」を趣旨とするアルバニア決議案が採択された。
 (ウ) アメリカのリチャード・ニクソン大統領は、1972年2月、中国を訪問し、上海コミュニケを発表した。
 (エ) 1972年9月、田中角栄首相と大平正芳外相は中国を訪問し、日中共同声明を発表して国交を正常化し、中華民国(台湾)とは断交した。

問(E) 下線部③に関連して、核兵器不拡散条約(NPT)に関する記述として最も適当でないものを次の(ア)～(エ)から一つ選び、その記号をマークしなさい。

- (ア) NPTは、アメリカ、ロシア、イギリス、フランス、中国の5カ国を「核兵器国」と定めている。
 (イ) NPTに加盟する「非核兵器国」は、国際原子力機関(IAEA)による査察を受ける義務を負っている。
 (ウ) ベラルーシ、ウクライナ、カザフスタンは、ロシアに核兵器を移転してNPTに加入した。
 (エ) イスラエルは、保有していた核兵器を放棄してNPTに加入した。

問(F) 文中の(c)に入れるのに最も適当な語句を次の(ア)～(エ)から一つ選び、その記号をマークしなさい。

- (ア) 文在寅 (イ) 金正恩
 (ウ) 尹錫悦 (エ) 李在明

問(G) 下線部④に関連して、インドに関する記述として最も適当でないものを次の(ア)～(エ)から一つ選び、その記号をマークしなさい。

- (ア) インドは独立後、米ソ両陣営とは距離を置く非同盟主義を掲げた。
 (イ) インドと中国は、1954年、領土・主権の相互尊重、相互不可侵、内政不干渉、平等互恵、平和共存の「平和五原則」で合意したが、両国は1959年と1962年に国境で武力衝突を起こした。
 (ウ) アメリカと中国の接近が明らかとなった直後の1971年8月、インドはソ連と平和友好協力条約を締結した。
 (エ) 「ヒンドゥー至上主義」を掲げるインド人民党は、ジャワハルラール・ネルー初代首相を曾祖父に持つラーフル・ガンディーが率いており、2024年の総選挙で第一党となった。

〔Ⅱ〕 次の文章を読んで、問(A)～問(H)に答えなさい。

経済活動を調整する方法は、市場経済と(1)の二つに大別される。市場経済では、家計も企業も市場で対価を支払って必要な財やサービスを購入する。一方、(1)では、生産する財の数量と価格は原則として国家が定める。

市場経済の大きな利点は、価格の自動調節機能にある。需要が供給を上回っているときには価格は(a)し、供給が需要を上回っているときには価格は(b)する。その結果、需要と供給が一致するような(c)が実現し、希少な資源が無駄なく配分される。このような市場の動きは市場メカニズムと呼ばれる。

(1)によって資源が配分される社会主義経済では、このようなメカニズムは働かない。主に国家が財の生産と分配を担うが、その情報基盤や計算能力は完全でないため、効率的な資源配分の実現は困難である。実際、崩壊する直前の社会主義圏では、生活必需品ですら十分に行きわたらないという状態であった。

しかし、市場経済も万能ではなく、市場本来の機能が発揮されず(2)が生じることがある。(2)の要因としては、独占・寡占、外部経済・外部不経済、公共財の存在などがあげられる。これらにより市場メカニズムが十分に機能しない場合には、政府による是正が求められる。

現在、多くの国の経済体制は、市場経済を基本としながらも、政府にも一定の役割がある(3)であり、公的部門と私的部門が並存している。(3)では、政府が再分配政策などを行うため、市場経済に比べると政府の役割が大きいのだ。政府の適切な規模に関しては様々な議論がある。

問(A) 文中の(1)～(3)に入れるのに最も適当な語句を下記の語群から選び、その記号をマークしなさい。

〔語群〕

- (ア) ブロック経済 (イ) 規模の経済 (ウ) 計画経済
(エ) 混合経済 (オ) 一国二制度 (カ) 夜警国家
(キ) 市場の失敗 (ク) 政府の失敗 (ケ) 情報の非対称性
(コ) 価格の下方硬直性

問(B) 空欄(a)～(c)に入る語句の組合せとして最も適当なものを次の(ア)～(エ)から一つ選び、その記号をマークしなさい。

- (ア) a：上昇 b：下落 c：管理価格
(イ) a：上昇 b：下落 c：均衡価格
(ウ) a：下落 b：上昇 c：管理価格
(エ) a：下落 b：上昇 c：均衡価格

問(C) 下線部①に関連して、社会主義について述べた文として最も適当なものを次の(ア)～(エ)から一つ選び、その記号をマークしなさい。

- (ア) 中国が世界で最初の社会主義革命を成功させた。
(イ) ソ連では、競争原理が働き、技術革新が急速に進んだ。
(ウ) 社会主義経済における計画化は、労働者の労働意欲を高めた。
(エ) 社会主義経済の特徴は、生産手段の社会的所有である。

問(D) 下線部②の特徴を述べた文として最も適当なものを次の(ア)～(エ)から一つ選び、その記号をマークしなさい。

- (ア) 価格が上昇したときの需要量の減少の割合が小さい。
(イ) 価格が上昇したときの需要量の減少の割合が大きい。
(ウ) 価格が上昇したときの供給量の増加の割合が小さい。
(エ) 価格が上昇したときの供給量の増加の割合が大きい。

— 7 —

問(G) 下線部⑤について述べた文として最も適当なものを次の(ア)～(エ)から一つ選び、その記号をマークしなさい。

- (ア) 公共財の持つ非競争性という性質により、フリーライダーの問題が生じる。
(イ) 公共財は、多くの人が同時に消費できるという性質を持っている。
(ウ) 政府が公共財を適切に供給するために、公正取引委員会が設けられている。
(エ) 市場にまかせておくと、公共財の供給は社会的に望ましい水準より過大になってしまう。

問(H) 下線部⑥に関連して、「小さな政府」を志向し、「資本主義と自由」を著した経済学者として、最も適当なものを次の(ア)～(エ)から一つ選び、その記号をマークしなさい。

- (ア) ケインズ (イ) フリードマン (ウ) メンガー
(エ) ビケティ

— 9 —

問(E) 下線部③について述べた文として最も適当でないものを次の(ア)～(エ)から一つ選び、その記号をマークしなさい。

- (ア) 独立した企業どうしが、価格や生産量などについて協定を結ぶことをカルテルという。
(イ) 巨大な設備を用いる産業では、自然独占が生じやすい。
(ウ) 独占市場や寡占市場では、企業が価格をつり上げることで利潤を増やそうとすることがある。
(エ) 現在の独占禁止法は、集中排除の観点から持株会社の新設を禁止している。

問(F) 下線部④について述べた文として最も適当でないものを次の(ア)～(エ)から一つ選び、その記号をマークしなさい。

- (ア) 外部経済のある生産活動を行っている企業に対して、政府が補助金を与えることで、社会的に望ましい生産量を実現できることがある。
(イ) 外部不経済のある生産活動を行っている企業の生産量は、社会的費用が存在により、社会的に望ましい生産量よりも過少になる。
(ウ) 二酸化炭素を排出する企業に環境税を課すことにより、外部不経済が内部化され、二酸化炭素の排出量減少が期待される。
(エ) 公害という外部不経済を内部化する一つの方法は、政府が企業に被害者への補償を義務づけることである。

— 8 —

〔Ⅲ〕 次の文章を読んで、問(A)～問(B)に答えなさい。

人身(身体)の自由は、すべての自由の基礎ともいべきものであるが、人身(身体)の自由について、日本国憲法はどのような規定を設けているのか確認してみよう。

日本国憲法第18条は、「何人も、いかなる奴隷的拘束も受けない。又、犯罪に因る処罰の場合を除いては、その意に反する(1)に服させられない。」と規定する。

日本国憲法第31条は、「何人も、法律の定める手続によらなければ、その生命若しくは自由を奪はれ、又はその他の刑罰を科せられない。」と規定し、適正手続の保障と罪刑法定主義の原則を定めているほか、日本国憲法第32条は、「何人も、裁判所において裁判を受ける権利を奪はれない。」と規定する。

そのうえで、日本国憲法第33条以下では、刑事事件の被疑者や被告人の権利を守るための手続きについて定めている。

日本国憲法第33条は、「何人も、現行犯として逮捕される場合を除いては、権限を有する司法官憲が発し、且つ理由となつてある犯罪を明示する(2)によらなければ、逮捕されない。」と規定するほか、日本国憲法第35条第1項は、「何人も、その住居、書類及び所持品について、侵入、搜索及び押収を受けることのない権利は、第三十三条の場合を除いては、正当な理由に基いて発せられ、且つ搜索する場所及び押収する物を明示する(2)がなければ、侵されない。」と規定し、日本国憲法第35条第2項は、「搜索又は押収は、権限を有する司法官憲が発する各別の(2)により、これを行ふ。」と規定している。

日本国憲法第34条は、「何人も、理由を直ちに告げられ、且つ、直ちに(3)に依頼する権利を与へられなければならない。抑留又は(4)されない。又、何人も、正当な理由がなければ、(4)されず、要求があれば、その理由は、直ちに本人及びその(3)の出席する公開の法廷で示されなければならない。」と規定する。

日本国憲法第36条は、「公務員による(5)及び残虐な刑罰は、絶対にこれを禁ずる。」と規定する。

— 10 —

日本国憲法第37条第1項は、「すべて刑事事件においては、被告人は、公平な裁判所の迅速な公開裁判を受ける権利を有する。」と規定し、同条第2項は、「刑事被告人は、すべての証人に対して審問する機会を充分に与へられ、又、公費で自己のために強制的な手続により証人を求める権利を有する。」と規定し、同条第3項は、「刑事被告人は、いかなる場合にも、資格を有する(3)を依頼することができる。被告人が自らこれを依頼することができないときは、国でこれを附する。」と規定する。

日本国憲法第38条第1項は、「何人も、自己に不利益な供述を強要されない。」と規定し、同条第2項は、「強制、(5)若しくは脅迫による(6)又は不当に長く抑留若しくは(4)された後の(6)は、これを証拠とすることができない。」と規定し、同条第3項は、「何人も、自己に不利益な唯一の証拠が本人の(6)である場合には、有罪とされ、又は刑罰を科せられない。」と規定する。

日本国憲法第39条は、「何人も、実行の時に違法であつた行為又は既に無罪とされた行為については、刑事上の責任を問はれない。又、同一の犯罪について、重ねて刑事上の責任を問はれない。」と規定する。

日本国憲法第40条は、「何人も、抑留又は(4)された後、無罪の裁判を受けたときは、法律の定めるところにより、国にその(7)を求めることができる。」と規定する。

問(A) 文中の(1)～(7)に入れるのに最も適当な語句を下記の語群から選び、その記号をマークしなさい。

〔語群〕

- | | | | |
|----------|-----------|---------|----------|
| (ア) 補償 | (イ) 賠償 | (ウ) 拘禁 | (エ) 自白 |
| (オ) 告発 | (カ) 拷問 | (キ) 令状 | (ク) 死刑 |
| (コ) 尋問 | (ク) 冤罪 | (ケ) 告訴 | (コ) 苦役 |
| (サ) 再審 | (セ) 保釈金 | (ク) 弁護士 | (ク) 法務大臣 |
| (フ) 司法書士 | (ソ) 成年後見人 | | |

— 11 —

問(B) 下線部①に関連して、刑事手続きについて刑事訴訟法が以下のように定めているが、文中の(x)～(z)に入れるのに最も適当な語句を下記の語群から選び、その記号をマークしなさい。

刑事訴訟法第203条第1項は、「司法警察員は、逮捕状により被疑者を逮捕したとき、又は逮捕状により逮捕された被疑者を受け取つたときは、直ちに犯罪事実の要旨及び弁護人を選任することができる旨を告げた上、弁解の機会を与え、留置の必要がないと思量するときは直ちにこれを釈放し、留置の必要があると思量するときは被疑者が身体を拘束された時から(x)以内に書類及び証拠物とともにこれを検察官に送致する手続をしなければならぬ。」と規定する。

刑事訴訟法第205条第1項は、「検察官は、第二百三条の規定により送致された被疑者を受け取つたときは、弁解の機会を与え、留置の必要がないと思量するときは直ちにこれを釈放し、留置の必要があると思量するときは被疑者を受け取つた時から(y)以内に裁判官に被疑者の勾留を請求しなければならぬ。」と規定する。

刑事訴訟法第208条第1項は、「第二百七条の規定により被疑者を勾留した事件につき、勾留の請求をした日から(z)以内に公訴を提起しないときは、検察官は、直ちに被疑者を釈放しなければならぬ。」と規定し、さらに刑事訴訟法第208条第2項は、「裁判官は、やむを得ない事由があると認めるときは、検察官の請求により、前項の期間を延長することができる。この期間の延長は、通じて(z)を超えることができない。」と規定する。

〔語群〕

- | | | |
|-----------|-----------|-----------|
| (ア) 十二時間 | (イ) 二十四時間 | (ウ) 四十八時間 |
| (エ) 七十二時間 | (オ) 五日 | (カ) 十日 |
| (キ) 三十日 | (ク) 五十日 | |

— 12 —

〔IV〕 次の文章を読んで、問(A)～問(D)に答えなさい。

赤道付近や南半球に多い発展途上国は、不足する開発資金を確保するため、先進国の政府や銀行から融資を受けることがある。多額の融資を受けていた国の中にはリスケジュールやデフォルトのような危機に直面した国もある。このような発展途上国の多額の借入の問題は(1)と呼ばれる。他方で、BRICSなど工業化が進んで豊かになった国も出てきた。発展途上国の中で、経済発展に成功した国と貧困からの脱却が進まない国の間の経済格差は(2)と呼ばれる。

発展途上国が抱えるさまざまな問題を解決するため、これまでに多くの国際的な取り組みがなされてきた。国連の(3)では、プレビッシュ報告に基づいて、特惠関税制度の導入、一次産品の価格安定などの目標が立てられた。2000年の国連ミレニアムサミットでは、国連ミレニアム宣言が採択され、その宣言のもとにミレニアム開発目標がまとめられた。

④ 1961年に設立された(4)は、その下部組織としてDACをもうけ、発展途上国への援助の拡大を図っている。各国が発展途上国に対して行う資金・技術提供は、ODAと呼ばれる。なお、日本のODA政策の理念は、開発協力大綱に定められている。日本のODA実施機関としては(5)があり、その代表的事業には青年海外協力隊などがある。

問(A) 文中の(1)～(5)に当てはまる語句として最も適当なものを次の(ア)～(イ)から選び、その記号をマークしなさい。

- | | | |
|----------|------------|------------|
| (ア) 南北問題 | (イ) 南南問題 | (ウ) 累積債務問題 |
| (エ) 通貨危機 | (オ) 世界金融危機 | (カ) UNCTAD |
| (キ) UNDP | (ク) UNESCO | (ケ) OECD |
| (コ) NIEO | (セ) IBRD | (ソ) JICA |
| (タ) JBIC | (テ) JFC | (ト) JETRO |

— 13 —

問(B) 下線部①の問題が1982年に表面化した国として、最も適当なものを次の(ア)～(イ)から一つ選び、その記号をマークしなさい。

- | |
|----------|
| (ア) メキシコ |
| (イ) タイ |
| (ウ) ギリシャ |
| (エ) 韓国 |

問(C) 以下の記述は下線部②に含まれる国に関するものである。この記述に当てはまる国として、最も適当なものを次の(ア)～(イ)から一つ選び、その記号をマークしなさい。

「1990年代に社会主義経済から市場経済への移行をめざしたが、原油価格の低下などにより財政が悪化し、1998年には通貨危機に見舞われた。」

- | |
|-----------|
| (ア) ブラジル |
| (イ) ロシア |
| (ウ) インド |
| (エ) 中国 |
| (オ) 南アフリカ |

問(D) 下線部③の中で発展途上国の立場から要求されたものとして、最も適当なものを次の(ア)～(イ)から一つ選び、その記号をマークしなさい。

- | |
|--------------------|
| (ア) 最恵国待遇 |
| (イ) GATTの自由貿易制度の導入 |
| (ウ) 途上国に対する経済援助 |
| (エ) 持続可能な開発の促進 |

— 14 —

問(E) 下線部④に関する記述として、最も適当でないものを次の(ア)～(エ)から一つ

選び、その記号をマークしなさい。

- (ア) 目標の達成期限を2015年とする。
- (イ) 絶対的貧困層を半減するという目標は達成された。
- (ウ) 地球環境の保護や持続可能性に関する目標は含まれていない。
- (エ) 2015年には、後継の開発目標であるSDGsが採択された。

問(F) 以下の記述は下線部⑤の各国実績額の大きさの順位の変遷を説明したものである。文中の(a)～(d)に当てはまる国名を以下の選択肢から選び、その記号をマークしなさい。ただし、同じものを2回以上用いてもよい。

「外務省の開発協力白書によると、1991年から2000年まで1位は(a)であったが、2001年には(b)が1位となった。(a)は他の援助国が総額を増やしたため、2007年には5位まで順位を落とした。2016年から2020年は1位が(c)、2位が(d)となっている」

- (ア) アメリカ
- (イ) イギリス
- (ウ) ドイツ
- (エ) フランス
- (オ) 日本

問(G) 下線部⑥に関する語句の説明として、最も適当な記述を次の(ア)～(エ)から一つ選び、その記号をマークしなさい。

- (ア) アンタイドとは機材等の調達先を援助供与国の企業に限定する援助形式である。
- (イ) グラント・エレメントとは援助条件の厳しさの数値で、民間金融機関による融資条件を100%とし、贈与の場合は0%となる。
- (ウ) 多国籍援助とは世界銀行などの国際機関を通じた援助のことである。
- (エ) 無償資金協力とは低金利で貸し付ける援助のことである。

問(H) 下線部⑦に関する記述として、最も適当でないものを次の(ア)～(エ)から一つ選び、その記号をマークしなさい。

- (ア) 非軍事目的の支援であれば外国軍への支援も排除しない。
 - (イ) 1992年にODA大綱として定められ、その後改定されて2015年の閣議決定で開発協力大綱となった。
 - (ウ) 経済発展によりODAの対象でなくなった国への支援制限は撤廃された。
 - (エ) 開発協力の目的は途上国の経済発展のみとし、日本の国益は考慮しない。
- (以上)

2025年度入学試験問題

政治・経済

注意事項

- I 試験開始の指示があるまで問題用紙を開いてはいけません。
- II 解答用紙はすべて黒鉛筆(HB)(シャープペンシルは、HB 0.5 mm以上の芯であれば使用可)で記入することになっています。
(万年筆・ボールペン・サインペンなどを使用してはいけません)
- III 解答用紙右端の出席票に印刷されている受験番号を確認してください。間違いがなければ氏名欄に署名し、切取線から切り離してください。
- IV 試験時間は60分です。
- V 問題は24ページで大問4問です。

マーク記入上の注意

1. 解答欄にマークするときは、HBの黒鉛筆で次の正しい例のように、強く正確にぬりつぶしてください。
2. マークのしかた
 - (ア) 正しい例
 - a 解答が1つの場合、例えばイと解答するときは

(1)	<input type="radio"/>	<input checked="" type="radio"/>	<input type="radio"/>	<input type="radio"/>	<input type="radio"/>
-----	-----------------------	----------------------------------	-----------------------	-----------------------	-----------------------

 のように、マークしてください。
 - b 解答が2つの場合、例えばイとウと解答するときは

(1)	<input checked="" type="radio"/>	<input checked="" type="radio"/>	<input type="radio"/>	<input type="radio"/>	<input type="radio"/>
-----	----------------------------------	----------------------------------	-----------------------	-----------------------	-----------------------

 または

(1)	<input checked="" type="radio"/>	<input type="radio"/>	<input checked="" type="radio"/>	<input type="radio"/>	<input type="radio"/>
-----	----------------------------------	-----------------------	----------------------------------	-----------------------	-----------------------

 のように各1つずつマークしてください。
 - (イ) 悪い例
 - (1)

<input type="radio"/>	<input type="radio"/>	<input type="radio"/>	<input type="radio"/>	<input type="radio"/>	<input type="radio"/>
-----------------------	-----------------------	-----------------------	-----------------------	-----------------------	-----------------------

 ○印でかこむ。
 - (2)

<input type="radio"/>	<input type="radio"/>	<input type="radio"/>	<input type="radio"/>	<input type="radio"/>	<input type="radio"/>
-----------------------	-----------------------	-----------------------	-----------------------	-----------------------	-----------------------

 金額をぬりつぶしていない。
 - (3)

<input type="radio"/>	<input type="radio"/>	<input type="radio"/>	<input type="radio"/>	<input type="radio"/>	<input type="radio"/>
-----------------------	-----------------------	-----------------------	-----------------------	-----------------------	-----------------------

 レ印をつける。
 - (4)

<input type="radio"/>	<input type="radio"/>	<input type="radio"/>	<input type="radio"/>	<input type="radio"/>	<input type="radio"/>
-----------------------	-----------------------	-----------------------	-----------------------	-----------------------	-----------------------

 ↓印をつける。
 - (5)

<input checked="" type="radio"/>	<input checked="" type="radio"/>	<input checked="" type="radio"/>	<input checked="" type="radio"/>	<input checked="" type="radio"/>	<input checked="" type="radio"/>
----------------------------------	----------------------------------	----------------------------------	----------------------------------	----------------------------------	----------------------------------

 1欄に2つ以上マークする。
 このような記入をしてはいけません。
3. 一度記入したマークを訂正する場合は、消しゴムで完全に消してから記入しなおしてください。
 (1)

<input checked="" type="radio"/>	<input checked="" type="radio"/>	<input checked="" type="radio"/>	<input checked="" type="radio"/>	<input checked="" type="radio"/>	<input checked="" type="radio"/>
----------------------------------	----------------------------------	----------------------------------	----------------------------------	----------------------------------	----------------------------------

 のように×印をしても消したことはありません。
4. 解答用紙を折り曲げたり、破ったり、また汚したりしないでください。

〔I〕 学生Xは、日本における政治改革について調べた。以下に示す、学生Xが見つけた資料やデータを読みながら、問(A)～問(D)に答えなさい。なお、引用している資料やデータは一部省略・改変している。

問(A) 学生Xは、衆議院議員総選挙に小選挙区比例代表並立制が導入された経緯を調べたところ、細川護熙元首相へのインタビュー記事を見つけた。この記事に関連して、次の(1)～(3)に答えなさい。

—1993年衆院選で自民党が過半数割れし、^①非自民8党派による細川政権ができた。

(細川)38年続いた自民党政治に多くの国民が非常に強い不満を感じており、その空気が後押ししてくれた。選挙後に新党さきがけの武村正義代表と田中秀征代表代行の3人で「政治改革政権」の構想をまとめ、「この指止まれ」で他の党が食い付いた。政治改革という旗がしっかりあったから8党派の連立ができた。当時は自民党から一緒にやりたいという話もあった。

ただ、私は社会党も加わっていたので政権は長持ちしないと思っていた。短期決戦で、やれるのは政治改革とコメの市場開放の二つだと限定して、それに集中した。

—細川政権で衆院に小選挙区比例代表並立制を導入した。

(細川)政府案は衆院定数を小選挙区250、比例250で、比例は全国単位にすることだった。とにかく政権交代可能な政治の仕組みをつくるということだ。しかし、参院自民党が抵抗勢力となり阻まれた。最終的には自民党の河野洋平総裁とのトップ会談で決めることになった。私はそこで自民党案を丸のみし、小選挙区300、比例200、比例はブロック制で合意した。

出典：2023年8月28日付 時事ドットコムニュース「政権交代には「旗」が必要 細川護熙元首相インタビュー」(<https://www.jiji.com/jc/article?k=2023082700262>, 最終アクセス日 2024年7月1日)

(1) 下線部①に関連して、自由民主党(自民党)を与党に含まない内閣で首相に就いたことのある人物として最も適当でないものを次の(ア)～(イ)から一つ選び、その記号をマークしなさい。

- (ア) 菅直人
- (イ) 鳩山由紀夫
- (ウ) 羽田孜
- (エ) 福田康夫

(2) 下線部②に関連して、自民政権に日本社会党(社会党)が対抗する55年体制が確立された前後の説明として最も適当なものを次の(ア)～(イ)から一つ選び、その記号をマークしなさい。

- (ア) 1948年に発足した芦田均内閣は、社会党が初めて与党になった内閣である。
- (イ) 自民党は、憲法改正に反対する立場を「党の政綱」に掲げて結成された。
- (ウ) 自民党が結成された1955年11月当時の内閣では、鳩山一郎が首相に就いていた。
- (エ) 1960年代には、自民党にも社会党にも不満な人々の受け皿として、日本共産党や公明党、民主社会党が結成された。

- (3) 下線部③に関連して、日本の国政における現在の選挙制度についての説明として最も適当なものを次の(ア)～(エ)から一つ選び、その記号をマークしなさい。
- (ア) 衆議院(比例代表選出)議員の選挙において、政党その他の政治団体は、候補者の氏名だけでなく、それらの者間における当選人となるべき順位を届け出る。
- (イ) 衆議院(比例代表選出)議員の選挙において、当該衆議院(小選挙区選出)議員の選挙区における候補者を、政党その他の政治団体が届け出る衆議院名簿に登録することはできない。
- (ウ) 参議院議員の定数は、選挙区選出議員よりも比例代表選出議員の方が多く定められている。
- (エ) 参議院(比例代表選出)議員の選挙の投票において、選挙人は、投票用紙に参議院名簿に登録された候補者一人の氏名を自書しなければならず、届出をした政党その他の政治団体の名称を自書することは認められていない。

問(B) 学生 X は、先の記事に出てきた細川と河野洋平(元自民党総裁、元衆議院議長)とのトップ会談について調べ、衆議院事務局が公開する河野へのインタビューを見つけた。この資料に関連して、次の(1)及び(2)に答えなさい。

「トップ会談での合意事項ですが、定数配分とブロック制に加え、もう一つの大きな柱は企業献金についてでした。
(河野)トップ会談で決めたのは、小選挙区制でいくよ、それから企業献金はやめようという、この二つが政治改革の車の両輪だと僕は思っていたんです。(中略)それで、時間が経過して今考えてみると、小選挙区制は良くも悪くも制度としてできて動いているけれど、企業献金の方は全く動かなかった。だから、今は両輪が片っ方しか回っていないという感じです。

- 3 -

- (2) 河野へのインタビュー中の(x)には、1988年に発覚し、1989年に宮沢喜一(当時、前大蔵大臣)や安倍晋太郎(当時、自民党幹事長)の秘書らが略式起訴された汚職事件の名前が入る。この事件の名前として最も適当なものを次の(ア)～(エ)から一つ選び、その記号をマークしなさい。
- (ア) ダグラス・グラマン
- (イ) リクルート
- (ウ) 東京佐川急便
- (エ) 日産連やミ献金

問(C) 学生 X は、他の元衆議院議長が現在の政治制度をどのように評価しているのかも調べたところ、2019年9月23日に読売新聞に掲載した当時の大島理森衆議院議長へのインタビュー記事を見つけた。この記事に関連して、次の(1)～(4)に答えなさい。

「国会運営の考え方について、就任当初からの変化はありますか。
(大島)(前略)4年半の国会運営で、特異なプロセスを経た案件が二つあります。一つは16年の「1票の格差」を是正するための衆院選挙制度改革、もう一つは17年の平成の天皇陛下のご退位を可能とする法整備です。これらは、衆院あるいは衆参両院の正副議長で主導的に協議と合意形成の場を作りました。

「国会改革の課題は。

(大島)(前略)2020年に国勢調査が行われ、21年に速報値が公表されます。そうすると、選挙区の区割り変更や参院の合区の問題など選挙制度を含め、国会のあり方が議論になると思います。その時、憲法改正論議に跳ね返ってくる可能性があります。各党には今からしっかりと研究していただきたいと思っています。

政党のあり方も真剣に考える時期に来ています。無党派層が多く、選挙の投票率も非常に低いからです。(中略)政党の信頼を高めるた

- 3 -

「政治改革は、元々は(x)事件を発端とした政治と金の問題についてで、必ずしも選挙制度が主眼ではなかったと思います。
(河野)そうです。政治資金にまつわるスキヤンダルが元で政治不信になって、それを解消するために政治改革をやると言ったんですよ。

出典：衆議院事務局「正副議長経験者に対するオーラル・ヒストリー事業 第71代・72代衆議院議長 河野洋平」(https://www.shugiin.go.jp/internet/itdb_annainf/html/statics/shiryo/kono_yohei.html, 最終アクセス日2024年7月1日)

- (1) 下線部④に関連して、2024年4月時点での政治資金規正法や政党助成法についての説明として最も適当なものを次の(ア)～(エ)から一つ選び、その記号をマークしなさい。
- (ア) 政治団体には収支報告書の提出が義務づけられている。ただし、それを受理した総務大臣又は都道府県の選挙管理委員会にその報告書の要旨を公表する義務はない。
- (イ) 会社や労働組合は、政党及び政治資金団体に対する政治活動に関する寄附を一切してはならない。
- (ウ) 政党助成法において、所属する国会議員が4名以下の政治団体は、直近に行われた衆議院議員総選挙や参議院議員通常選挙での得票率に関わらず「政党」として扱われない。
- (エ) 政党交付金の総額は、基準日における人口に250円を乗じて得た額を基準として予算で定める。

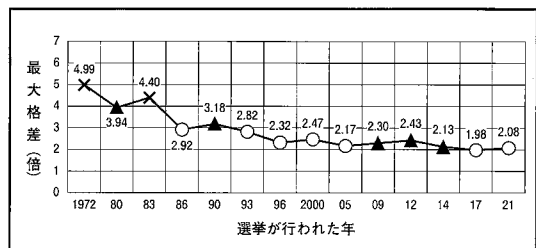
- 4 -

「めはどうしたらいいか、交付金制度を維持しつつも、あり方を議論していいのではないですか。

出典：2019年9月23日付 読売新聞東京版朝刊4面「憲法論議 合意重ね進めよ 衆議院議長 大島理森氏」

- (1) 下線部⑤に関連して、学生 X は、国政選挙における「1票の格差」がどのように推移してきたかを調べた。次の図(a)と(b)は、選挙ごとに「1票の格差」が最大何倍であったかをまとめたものである。なお、図中の○は当該選挙について最高裁判所が「合憲」、▲は「違憲状態」、×は「違憲」と判断したことを意味する。この図から読み取れる内容として最も適当でないものを次の(ア)～(エ)から一つ選び、その記号をマークしなさい。

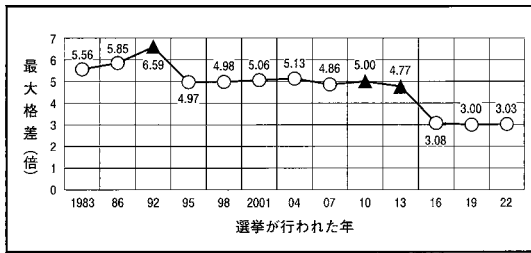
図(a) 衆議院議員総選挙における中/小選挙区



出典：2023年1月26日付 読売新聞東京版朝刊1面「21年衆院選 最高裁「合憲」」

- 6 -

図(b) 参議院議員通常選挙における選挙区



出典：2023年10月19日付 読売新聞大阪版朝刊 28面「昨年参院選 最高裁「違憲」」

- (ア) 衆議院議員総選挙では、前回の選挙から最大格差が大きくなった場合には、最高裁判所が必ず「違憲」もしくは「違憲状態」と判断している。
- (イ) 1980年以降の中選挙区制下での衆議院議員総選挙において、最高裁判所は、最大格差が3倍を超えると「違憲」もしくは「違憲状態」と判断している。
- (ウ) 参議院議員通常選挙では、鳥取県と島根県、徳島県と高知県がそれぞれ1つの選挙区(いわゆる合区)になって以降、最大格差が3倍台で推移している。
- (エ) 参議院議員通常選挙では、前回の選挙から最大格差が小さくなった場合でも、最高裁判所が「違憲状態」と判断したことがある。

- (4) 下線部⑧に関連して、日本では、より多くの有権者が選挙に参加しやすいように、公職選挙法を改正して投票環境を整備してきた。例えば、公職選挙法第48条の2によれば、職務や事故、妊娠などで選挙の当日(投票日)に投票所に行けない人には、当該選挙の公示日または告示日の翌日から投票日前日までの間に各市区町村が設ける投票所で投票を行わせることができる。公職選挙法第48条の2が定めるこの制度の名前として最も適当なものを次の(ア)~(エ)から一つ選び、その記号をマークしなさい。
- (ア) 在外投票
- (イ) 代理投票
- (ウ) 繰延投票
- (エ) 期日前投票

問D) 現在の政治制度が抱えている問題点に関心を持った学生Xは、野田聖子(元総務大臣、元女性活躍担当大臣)が日本で女性議員が少ない原因を語ったインタビュー記事も見つけた。

一衆院小選挙区比例代表並立制の導入後も女性議員はなかなか増えない。
 (野田) (前略) 誤算だったのは、各党が1選挙区あたり1人しか公認しないので、候補者になれない人が増えてきたということだ。中選挙区制では現職がいても1人、2人と新人が常に出られる環境があったが、小選挙区では現職がいる限り、新人が公認を得るのは難しい。男女を問わず、新陳代謝が進みにくくなった。

出典：2021年5月9日付 読売新聞東京版朝刊 4面「候補の新陳代謝進まず 民主党幹事長代行 野田聖子氏」

この記事を読んで、女性議員の割合に対する選挙制度の影響が気になった学生Xは、内閣府男女共同参画局による『令和5年版 男女共同参画白書』

- (2) 下線部⑨に関連して、2022年12月28日以後に公示される衆議院議員総選挙から、10年ごとに行われる大規模国勢調査に基づき、小選挙区における都道府県ごとの定数や比例代表選挙区における定数を新たな方式で配分することが決まった。この議席配分方式の名前として最も適当なものを次の(ア)~(エ)から一つ選び、その記号をマークしなさい。
- (ア) アダムズ方式
- (イ) サンラグ方式
- (ウ) ドント方式
- (エ) ヒル方式

- (3) 下線部⑩に関連して、公職選挙法では、政党や候補者について有権者が知る機会を確保するための制度をいくつか設けている。そのような制度を説明した次の(a)と(b)について、その正誤の組合せとして最も適当なものを次の(ア)~(エ)から一つ選び、その記号をマークしなさい。
- (a) 衆議院(小選挙区選出)議員の選挙の候補者には、いかなる場合であれ、自身や所属政党への投票を呼びかけるための戸別訪問が認められている。
- (b) 衆議院(小選挙区選出)議員の選挙の候補者には、電子メールを利用して、選挙運動のために使用する文書図画を頒布することが認められている。

	(a)	(b)
(ア)	正	正
(イ)	正	誤
(ウ)	誤	正
(エ)	誤	誤

に基づいて各種選挙における当選者に占める女性の割合を調べた。以下の表は、2021年の衆議院議員総選挙・2022年の参議院議員通常選挙・2023年の統一地方選挙における道府県議会選挙での当選者に占める女性の割合をまとめたものである。なお、2022年の参議院議員通常選挙の数値には、神奈川県選挙区で合併して行われた補欠選挙での当選者は含まれない。

	2021年衆議院議員総選挙	2022年参議院議員通常選挙	2023年統一地方選挙(道府県議会)
当選者に占める女性の割合	9.7%	(y)%	14.0%

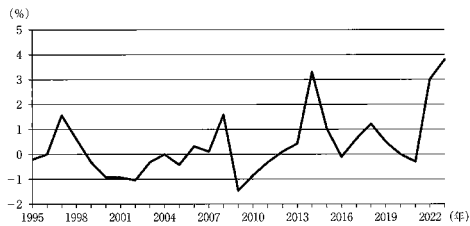
出典：内閣府男女共同参画局『令和5年版 男女共同参画白書』

表中の(y)に入る数字として最も適当なものを次の(ア)~(エ)から一つ選び、その記号をマークしなさい。

- (ア) 4.0
- (イ) 12.2
- (ウ) 27.4
- (エ) 46.1

〔Ⅱ〕以下の図は、1995年以降の日本の物価の推移を示している。生徒と先生は、この図を見ながら話し合っている。二人の会話を読んで、問(A)～問(F)に答えなさい。

図：日本の消費者物価指数の対前年増加率の推移



(出典)総務省統計局「消費者物価指数」より作成

生徒：この図を見ると、消費者物価指数の対前年増加率はプラスの値のときと、マイナスの値のときがあるのがわかりますね。

先生：そうですね。持続的にプラスの値をとっているところはインフレーションを、マイナスの値をとっているところはデフレーションを表しているよ。

生徒：そうすると、1999年ごろから2005年ごろまで、日本はデフレーションを経験していたということになりますね。デフレーションは、物価が持続的に(1)する現象だから、モノやサービスが安く買えるいい時期だったのでしょうか？

先生：たしかにそういう面もありますが、マクロ経済や国民生活に良くない影響を与えることも知られているよ。例えば、モノやサービスが安くなることは、企業の収益の減少を意味するから、雇用や賃金の削減にもつながるんじゃないかな。

生徒：それは困りますね。デフレーションを防ぐために、何か対策はとられたのでしょうか？

先生：この時期は、日本銀行による積極的な金融緩和がとられていたよ。

- 11 -

問(A) 文中の(1)～(4)に入れるのに最も適当な語句を下記の語群から選び、その記号をマークしなさい。

〔語群〕

- | | |
|-------------------|---------------------|
| (ア) アジア通貨危機 | (イ) ギリシャ財政危機 |
| (ウ) スタグフレーション | (エ) 上昇 |
| (オ) 下落 | (カ) クリーピング・インフレーション |
| (キ) ハイパー・インフレーション | |
| (ク) 第二次石油危機 | (ケ) 世界金融危機 |
| (コ) 1953 | (ク) 1959 |
| (ソ) 1973 | (セ) 1979 |

問(B) 下線部①に関して、最も適当なものを次の(ア)～(エ)から一つ選び、その記号をマークしなさい。

- (ア) 消費者物価指数は、基準年の物価水準を100とし、比較年の物価水準を指数で表したものである。
- (イ) 消費者物価指数は、従来は卸売物価指数とよばれていたが、2003年からの名称で公表されるようになった。
- (ウ) 消費者物価指数は、企業と企業の間で取引される財やサービスの価格を平均したものである。
- (エ) 消費者物価指数は、エネルギー資源と生鮮食品の価格を平均したものである。

- 13 -

生徒：そうですね。2006年ごろから物価が下げ止まりつつあるように見えますが、2009年からまた物価が下がっていますね。

先生：アメリカの大手投資銀行リーマン・ブラザーズの破綻を契機に、2008年に(2)とよばれる経済危機が発生し、日本の景気も急激に悪化したんですよ。その後の2011年の東日本大震災も甚大な被害をもたらしましたね。

生徒：そうですね。ところで、2014年には物価が大きく上がっていますが、景気が良くなったということでしょうか？

先生：いいえ、違います。その年の4月に消費税率が引き上げられたんですよ。消費者物価指数は、消費税による価格上昇分を含んだ指標だから、この時期に増加しているんです。

生徒：なるほど、そうすると政策的なものを除けば、2000年以降多くの時期で物価は下落していたということになりますね。日本でデフレーションが問題視されてきた理由がわかった気がします。

先生：そうですね。ところで、ここ最近では物価が上昇傾向にあることは知っていますか？

生徒：知っています。学食もこのあいだ値上がりしていました。ただ、ニュースを見た感じだと、景気が良くなって物価が上昇しているんじゃないかと、為替レートが関係しているみたいでしたよ。

先生：よく知っていますね。円安による原材料費や燃料費の高騰が、物価上昇の原因かもしれないんです。物価が上昇するからといって、景気がいいとはかぎらないということですね。

生徒：そういえば、(3)年の第一次石油危機の際には、エネルギー価格を中心に日本の消費者物価が急上昇しましたよね。このときは、日本の景気も低迷したという話でしたが、その状況に似ているのでしょうか？

先生：そうですね。一般に景気停滞とインフレーションが同時に進行する現象を(4)というよ。日本経済が(4)のような状況にならないように、これからも注意深く見ていかないといいませんね。

- 12 -

問(C) 下線部②に関して、急激なインフレーションの影響を説明したものとして、最も適当なものを次の(ア)～(エ)から一つ選び、その記号をマークしなさい。

- (ア) 年金や預貯金にたよる高齢者世帯の生活に悪影響をおよぼす。
- (イ) 債務の実質的な負担が重くなり、実質的な返済額も増加する。
- (ウ) 車や住宅、土地といった実物資産の名目価値が減少する。
- (エ) 将来の物価の変化を予想して、家計は消費を将来に先送りする。

問(D) 下線部③に関して、次の(a)から(d)は、金融緩和が实体经济に波及する経路を説明したものである。波及経路の順として最も適当なものを次の(ア)～(カ)から一つ選び、その記号をマークしなさい。

- (a) 中央銀行が金融市場で債券等を購入する。
- (b) 企業の設備投資や家計の住宅投資が増加する。
- (c) 市中金融機関が企業や家計に貸し出す際の金利が低下する。
- (d) 市中金融機関同士の貸し借りの金利が低下する。

- (ア) (a)→(b)→(c)→(d)
- (イ) (a)→(b)→(d)→(c)
- (ウ) (a)→(c)→(b)→(d)
- (エ) (a)→(c)→(d)→(b)
- (オ) (a)→(d)→(b)→(c)
- (カ) (a)→(d)→(c)→(b)

- 14 -

問E) 下線部④の引き上げは、図中の期間において2014年以外に2度実施されている。引き上げられた年の組合せとして、最も適当なものを次の(ア)～(カ)から一つ選び、その記号をマークしなさい。

- (ア) 1997年と2008年
- (イ) 1997年と2018年
- (ウ) 1997年と2019年
- (エ) 2008年と2018年
- (オ) 2008年と2019年
- (カ) 2018年と2019年

問F) 下線部⑤の変動のしくみを説明したものとして、最も適当でないものを次の(ア)～(エ)から一つ選び、その記号をマークしなさい。

- (ア) 物価上昇率が高い国はそうでない国と比べて、通貨が割高になる。
- (イ) 金利が高い国はそうでない国と比べて、通貨が割高になる。
- (ウ) 通貨当局による外国為替市場への介入によって影響を受ける。
- (エ) ヘッジファンドによる為替投機によって影響を受ける。

〔Ⅲ〕 次の文章を読んで、問(A)～問(E)に答えなさい。

日本国憲法第98条第1項は、「この憲法は、国の最高法規であつて、その条規に反する法律、命令、詔勅及び国務に関するその他の行為の全部又は一部は、その効力を有しない。」と規定している。そして、憲法の最高法規性を保障するため、日本国憲法は、一定の者に対して憲法を尊重し擁護する義務を課している(第99条)ほか、裁判所^①に対して違憲立法審査権を与えている(第81条)。

さらに、日本国憲法は、最高法規たる憲法を保障する制度として、憲法の改正手続を定めつつ、その改正の要件を厳格にしている。憲法改正の手続について、日本国憲法第96条第1項は、「この憲法の改正は、(1)の(2)の(3)の賛成で、国会が、これを発議し、国民に提案してその承認を経なければならない。この承認には、特別の国民投票又は国会の定める選挙の際行はれる投票において、その(4)の賛成を必要とする。」と定め、同条第2項は、「憲法改正について前項の承認を経たときは、(5)は、(6)の名で、この憲法と一体を成すものとして、直ちにこれを公布する。」と定めている。

2007年には、憲法改正の具体的な手続を定めた国民投票法(正式名称は「日本国憲法の改正手続に関する法律」)^②が成立した。そして、同年、衆参両院に、憲法改正原案の提出権を持つ(7)が設置された。

問(A) 下線部①について、憲法を尊重し擁護する義務を負う者として日本国憲法第99条で掲げられていない者を、次の(ア)～(エ)から一つ選び、その記号をマークしなさい。

- (ア) 天皇 (イ) 国務大臣 (ウ) 国会議員 (エ) 裁判官
- (オ) 国民

問(B) 文中の(1)～(4)に入れるのに最も適当な語句を下記の語群から選び、その記号をマークしなさい。

〔語群〕

- (ア) 衆議院 (イ) 参議院 (ウ) 各議院
- (エ) 両議院 (オ) 総議員 (カ) 裁判官
- (キ) 過半数 (ク) 国会議員 (ケ) 出席議員
- (コ) 最高裁判所 (サ) 衆議院議員 (セ) 参議院議員
- (ソ) 二分の一以上 (タ) 三分の一以上 (チ) 三分の二以上
- (ツ) 四分の三以上

問(C) 文中の(5)と(6)の組合せとして、最も適当なものを次の(ア)～(カ)から一つ選び、その記号をマークしなさい。

	(5)	(6)
(ア)	天皇	国民
(イ)	内閣総理大臣	天皇
(ウ)	国民	内閣総理大臣
(エ)	内閣総理大臣	国民
(オ)	国民	天皇
(カ)	天皇	内閣総理大臣

問(D) 下線部②に関する説明として、最も適当でないものを次の(ア)～(エ)から一つ選び、その記号をマークしなさい。

- (ア) 国民投票法は、「国民投票は、国会が憲法改正を発議した日……から起算して六十日以後百八十日以内において、国会の議決した期日に行う。」と定めている。
- (イ) 国民投票法は、「日本国民で年齢満十八年以上の者は、国民投票の投票権を有する。」と定めている。
- (ウ) 国民投票法は、「国民投票は、投票者数が有権者総数の二分の一以上であった場合に有効とする。」と定めている。
- (エ) 国民投票法は、「国民投票において、憲法改正案に対する賛成の投票の数が第九十八条第二項に規定する投票総数の二分の一を超えた場合は、当該憲法改正について日本国憲法第九十六条第一項の国民の承認があったものとする。」と定めている。

問(E) 文中の(7)に入れるのに最も適当な語句を次の(ア)～(エ)から一つ選び、その記号をマークしなさい。

- (ア) 憲法審査会
- (イ) 憲法調査会
- (ウ) 憲法研究会
- (エ) 憲法問題調査委員会

〔IV〕 次の文章を読んで、問(A)～問(I)に答えなさい。

21世紀を迎えて、持続可能性の問題がさまざまな場面でクローズアップされている。産業革命以降、局所的に公害問題が生じてきたが、今や、国境を越えた地球規模での環境汚染や環境破壊、^①各種資源の枯渇の危機など、^②地球環境問題が深刻化している。

地球環境問題への国際的な取り組みは1970年代からみられ、冷戦終結後、^③加速した。(1)年にブラジルのリオデジャネイロで地球サミット(国連環境開発会議)が開かれ、地球環境保護の国際的枠組みがつくられた。そこでの基本理念は、「持続可能な開発」であり、現在の世代だけでなく、将来の世代も経済的・社会的利益を享受できるように、開発・経済発展と環境保全を調和させ、発展を持続可能にしようとする考え方である。

この持続可能な開発において、さまざまな対立が表面化している。例えば、経済発展を達成し、豊かな生活を享受している先進国は、地球環境の保全を優先すべきという立場に立つが、貧困から脱却するために、生活水準の向上を目指す発展途上国は、自国の経済成長を優先しようとする立場に立つ。また先進国間においても、環境保護が国内経済に与える影響をめぐって対立がみられる。

1997年に採択された^④地球温暖化の防止の枠組みである^⑤京都議定書からは、2001年に(2)が離脱を表明した。そこで、2015年には新たな枠組みとして^⑥パリ協定が採択され、温室効果ガスの排出削減に取り組むことになった。その達成は義務化されていないものの、加盟国の目標の報告や目標達成に向けた国内対策の実施を義務づけている。

私たち人類は、どうすれば、経済成長と環境保護・保全の(3)を乗り越えて、温暖化防止を進めることができるのであろうか。一つに、温室効果ガスの排出量が実質ゼロとなる(4)社会の構築を目指す必要がある。しかしながら、私たちの文明は^⑦化石燃料に深く根ざして発展してきたおり、その実現は容易ではない。温室効果ガス、特に^⑧二酸化炭素の排出量の削減と同時に、森林管理や新技術による吸収・回収を促進する必要がある。

問(C) 下線部②に関する説明として、最も適当でないものを次の(ア)～(イ)から一つ選び、その記号をマークしなさい。

- (ア) 地球環境問題がはじめて国際的な検討課題となったのは、1972年にロンドンで開催された国連人間環境会議であった。
- (イ) フロンガスは、オゾン層破壊の原因とわかった。
- (ウ) 森林伐採や環境汚染による生息地の破壊によって絶滅した生物や、絶滅危惧種は膨大な数にのぼり、生物多様性の維持が緊急の課題になっている。
- (エ) 人口増加に伴う水資源使用量の増加、異常気象に伴う飲み水不足など、水資源の減少が深刻化しており、SDGsでも「安全な水とトイレを世界中に」というゴールを定めている。

問(D) 下線部③に関して、1970年代の国際的な取り組みとして最も適当でないものを次の(ア)～(イ)から一つ選び、その記号をマークしなさい。

- (ア) 人間環境宣言の採択 (イ) ワシントン条約の採択
- (ウ) ラムサール条約の採択 (エ) モントリオール議定書の採択

問(E) 下線部④に関する説明として、最も適当なものを次の(ア)～(イ)から一つ選び、その記号をマークしなさい。

- (ア) IPCCの第6次報告書によると、人間活動が大気・海洋・陸域を温暖化させたことに対しては、大きな疑いが残っている。
- (イ) 地球温暖化は、大気中の二酸化炭素の濃度が薄まることで生じる。
- (ウ) ツバルやモルディブなどの幾つかの島国は、温暖化による海面上昇で水没の危機にさらされている。
- (エ) 地球温暖化は、台風の大規模化やゲリラ豪雨などの異常気象とは関係がない。

問(A) 文中の(1)～(4)に入れるのに最も適当な語句を下記の語群から選び、その記号をマークしなさい。

〔語群〕

- | | | |
|----------|------------|----------------|
| (ア) 1989 | (イ) 1990 | (ウ) 1991 |
| (エ) 1992 | (オ) 1993 | (カ) 1994 |
| (キ) アメリカ | (ク) 中国 | (ケ) ロシア |
| (コ) イギリス | (ク) ドイツ | (シ) インド |
| (ス) 両立 | (セ) トレードオフ | (ソ) 相乗効果 |
| (タ) 希少化 | (チ) 共有地の悲劇 | (ツ) 環境クズネッツカーブ |
| (テ) 脱炭素 | (ト) SDGs | (ナ) 低炭素 |
| (ニ) 負炭素 | | |

問(B) 下線部①に関して、日本の公害問題と対応に関する説明として、最も適当なものを次の(ア)～(イ)から一つ選び、その記号をマークしなさい。

- (ア) 足尾銅山鉱毒事件では、渡良瀬川上流の足尾銅山から流出する銅、亜鉛などのため下流の農作物、魚類に多大なる被害が生じたが、戦前までに解決した。
- (イ) 典型的な産業公害である水俣病、イタイイタイ病、四日市ぜんそくをめぐっては、1960年代後半に次々と訴訟がおこなわれた。
- (ウ) 国連は、公害を発生させた企業に、公害防止に必要な費用を負担することを義務づける汚染者負担の原則(PPP)を勧告し、日本もその原則に基づくようになった。
- (エ) 大気汚染防止法や水質汚濁防止法では、企業に過失がなく、被害と企業活動の間の因果関係が認められなくても、被害者救済のための無過失責任の原則がとられている。

問(F) 下線部⑤に関する説明として、最も適当なものを次の(ア)～(イ)から一つ選び、その記号をマークしなさい。

- (ア) 温室効果ガスの削減目標について、数値目標が義務づけられた。
- (イ) 先進国と途上国の温室効果ガス削減目標が定められた。
- (ウ) 1997年に採択され、1998年に発効した。
- (エ) 2012年のCOP18では、京都議定書の10年間の延長が決定され、日本を含む多くの先進国が参加した。

問(G) 下線部⑥に関する説明として、最も適当なものを次の(ア)～(イ)から一つ選び、その記号をマークしなさい。

- (ア) 締結国の温室効果ガスの排出削減の達成が義務化された。
- (イ) 第二次世界大戦時と比べて、地球の平均気温上昇を2℃より十分低く保つことが求められた。
- (ウ) 2015年に採択され、2017年に発効した。
- (エ) すべての国が温室効果ガスの自主削減目標を誓約したうえで専門家による評価を受け、5年ごとに目標を再提出していくことが定められている。

問(H) 下線部⑦の代替エネルギーのうち、再生可能エネルギーとして最も適当でないものを次の(ア)～(イ)から一つ選び、その記号をマークしなさい。

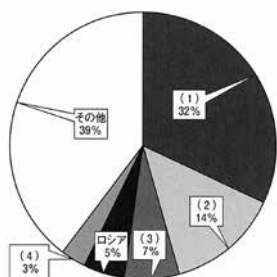
- (ア) 原子力
- (イ) 太陽光
- (ウ) 地熱
- (エ) バイオマス

問(1) 下線部⑧に関する図1、図2と、GDPに関する図3、図4の(1)～(4)

に当てはまる国を選び、その記号をマークしなさい。

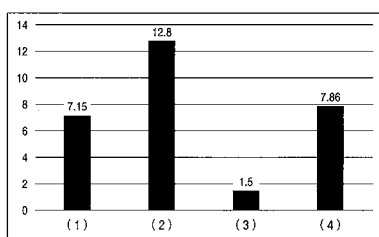
- (ア) ドイツ (イ) フランス (ウ) イギリス (エ) アメリカ
 (オ) 日本 (カ) 中国 (キ) ブラジル (ク) インド

図1 世界のCO₂排出量の割合(2020年)



資料：日本エネルギー経済研究所 計量分析ユニット編(2023)『EDMC/エネルギー・経済統計要覧2023年版』理工図書、p.235に基づき作成

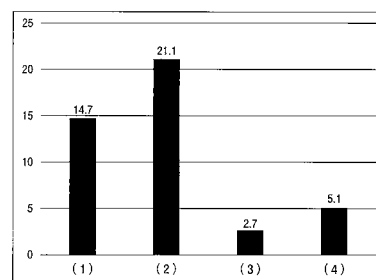
図2 世界の一人当たりCO₂排出量(2020年)



注：単位は、トンである。

資料：日本エネルギー経済研究所 計量分析ユニット編(2023)『EDMC/エネルギー・経済統計要覧2023年版』理工図書、p.248に基づき作成

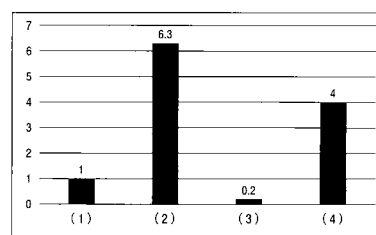
図3 名目GDP(2020年)



注：単位は、兆ドルである。

資料：内閣府ホームページ「GDPの国際比較」https://www.esri.cao.go.jp/jp/sna/data/data_list/kakuhou/files/2022/sankou/pdf/kokusaihikaku_20231225.pdf(2024年7月10日閲覧)に基づき作成

図4 一人当たりGDP(2020年)



注：単位は、万ドルである。

資料：内閣府ホームページ「GDPの国際比較」https://www.esri.cao.go.jp/jp/sna/data/data_list/kakuhou/files/2022/sankou/pdf/kokusaihikaku_20231225.pdf(2024年7月10日閲覧)に基づき作成

(以上)